













Họ và tên:.....

### PHIẾU HỌC TẬP CUỐI TUẦN 3

**Bài 1: Viết dấu + vào ô trống có nhóm số lượng nhiều hơn**

			
<input type="checkbox"/>	<input type="checkbox"/>	<input type="checkbox"/>	<input type="checkbox"/>

**Bài 2: Làm cho bằng nhau**

**Bài 3: Số?**

a. Cho các số : 4 , 7 , 9 , 2

Số bé nhất:

Số lớn nhất :

b. Cho các số: 10 , 6 , 7 , 8 , 9 , 0

Số bé nhất:


Số lớn nhất :

c. Cho các số : 0 , 1 , 2 , 3 , 4 , 5 , 6 , 7 , 8 , 9 , 10

Số lớn nhất :

Số lớn nhất có một chữ số:

**Bài 4:** Hãy điền số từ 1 đến 6 vào ô trống theo thứ tự từ lớn nhất đến nhỏ nhất?



**Bài 5:** Sắp xếp các số: 7, 1, 8, 3, theo thứ tự:

- Từ bé đến lớn :

--	--	--	--

- Từ lớn đến bé:

--	--	--	--

## Bài 6: Nối hình với chữ tương ứng:



bề bề

ô đò

bò

cờ đỏ

dê

cá cờ



## Bài 7: Nối :

đỏ
bờ
bề
bà

đê
ba
đỏ
cá

