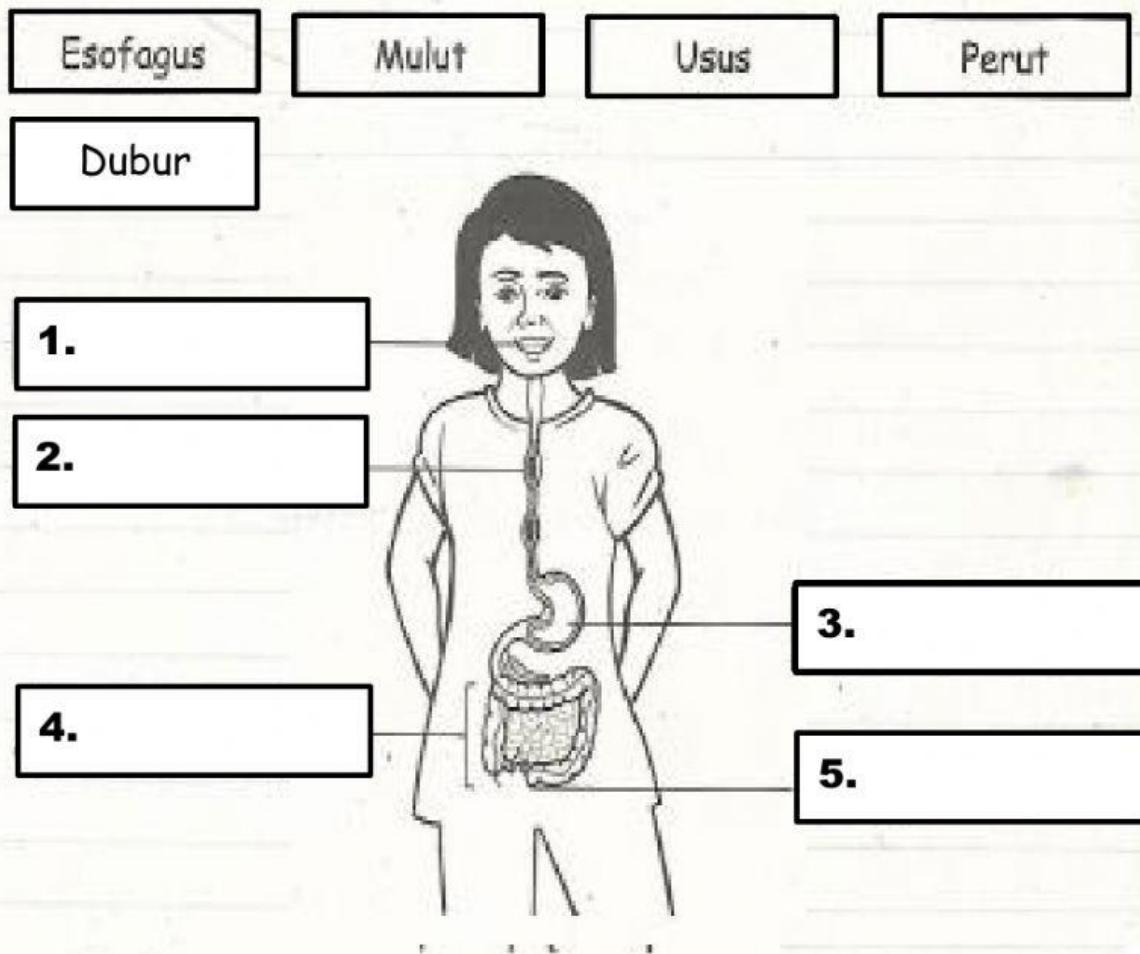


SAINS TAHUN 3

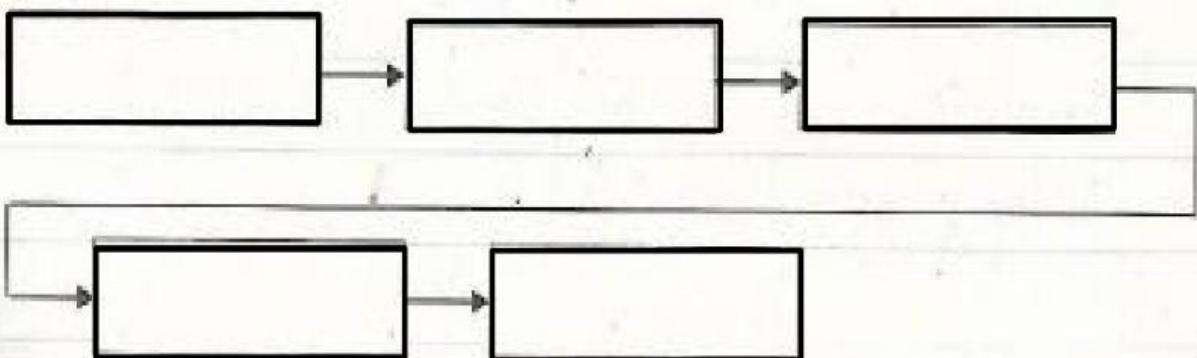
UNIT 3 : MANUSIA – PROSES PENCERNAAN



A. Seret bahagian pencernaan ke tempat yang betul




B. Isi tempat kosong dengan urutan aliran makanan semasa pencernaan.



c. Isi tempat kosong di bawah dengan jawapan yang betul.

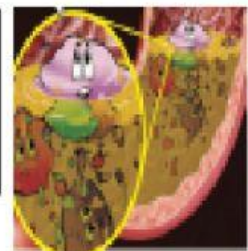
Di makanan dihancurkan oleh dan menjadi cebisan yang lebih kecil.



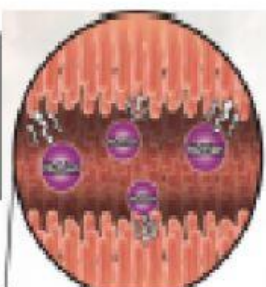
Makanan akan melalui satu laluan sempit di
Makanan yang hancur ini dikenali sebagai **bolus**.



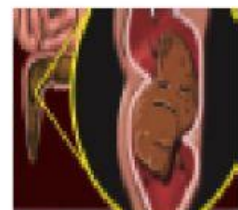
Di dalam makanan akan di kumpulkan dan saiz makanan semakin mengecil .



akan diserap di usus



Makanan tidak tercerna akan ke dubur dan menjadi



D. Tandakan (/) kotak pada perbuatan yang mengganggu pencernaan .

1.



2.



3.



4.



E. Padankan perbuatan yang mengganggu pencernaan dengan kesannya yang betul dan labelkan kesan perbuatan tersebut.

Muntah

Tersedak

Tercekik

Perbuatan

Kesan

