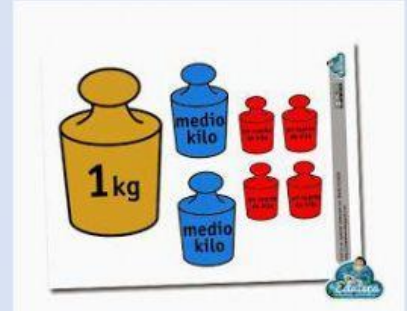
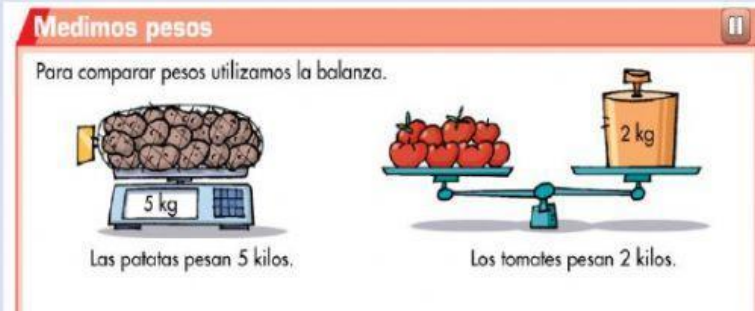


U. 12 CAPACIDAD Y MASA 2

EL KILOGRAMO

Repasamos lo que es. Pincha sobre cada dibujo:



Veamos si lo has comprendido. Completa:

★ ¿Cuántos medios kilos hay en...

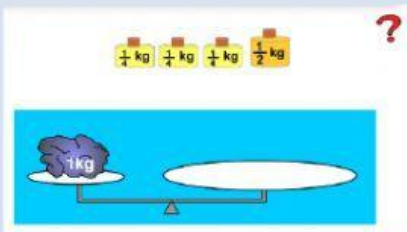
1 kg = medios kilos.

4 kg = medios kilos.

3 kg = medios kilos.

2 kg y medio = medios kilos.

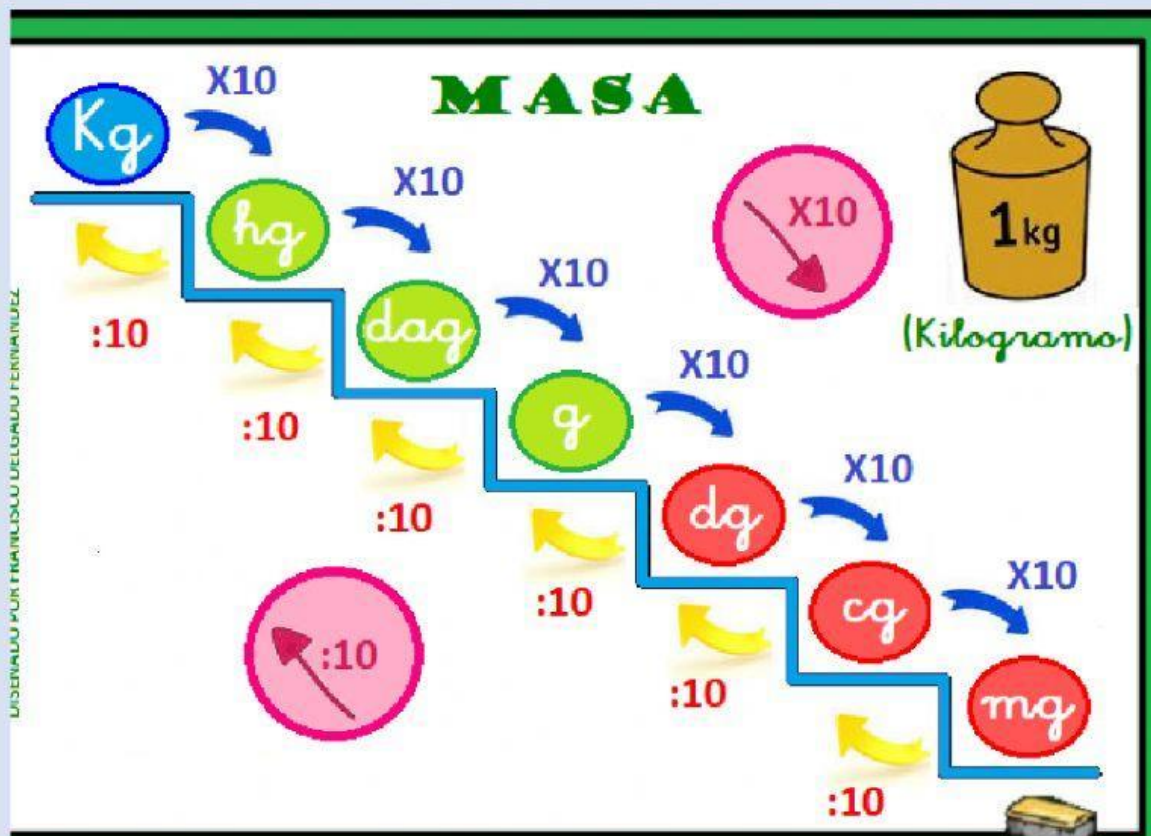
Practica con estos ejercicios pinchando sobre el dibujo:



Veamos si sabes hacerlo. Pulsa en la respuesta correcta:



Ahora vamos a utilizar la ESCALERA DE LAS UNIDADES DE MASA



Ahora te toca colocarlas:

Arrastra y coloca en la escalera las unidades de masa

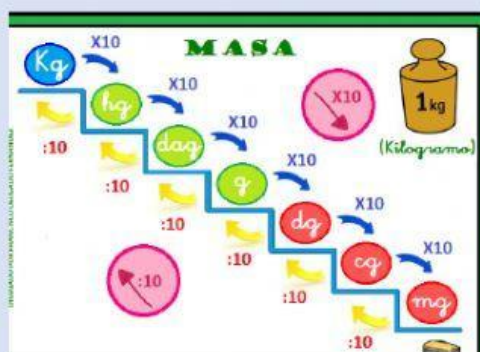
The diagram shows a mass ladder with 10 empty steps. A pink arrow labeled $\times 10$ points down from the 4th step to the 5th, and another pink arrow labeled $:10$ points up from the 5th step to the 4th. To the right of the ladder are six unit tiles:

- kg, mg, dag
- dg, cg, hg

Escribe su abreviatura:

Kilogramo: kg centigramo: decagramo: hectogramo: miligramo:

Recuerda la escalera, que vamos a trabajar con ella:



Completa:

1 Copia y completa en tu cuaderno.

- | | | | |
|----------------|----------------|-----------------|-----------------|
| ▪ 7 g = ... dg | ▪ 8 g = ... cg | ▪ 3 dg = ... cg | ▪ 90 dg = ... g |
| ▪ 4 g = ... dg | ▪ 9 g = ... cg | ▪ 7 dg = ... cg | ▪ 80 dg = ... g |

1 Expresa en gramos.

- | | | |
|---------|--------|--------|
| ▪ 7 dag | ▪ 4 hg | ▪ 5 kg |
| ▪ 6 dag | ▪ 7 hg | ▪ 9 kg |

Vamos a hacer bizcochos. Haz los cálculos en un cuaderno.


4 Lee la receta y calcula.

BIZCOCHO DE PASAS

- 200 g de mantequilla
- 250 g de azúcar
- 200 g de harina
- 4 huevos
- 50 g de pasas
- 1 cucharada de levadura

- ¿Cuántos gramos de pasas se necesitan para hacer 3 bizcochos?
- ¿Cuántos decigramos de harina se necesitan para hacer 2 bizcochos?
- Lucía tiene una docena de huevos. ¿Cuántos bizcochos de pasas puede hacer?
- Lucía compra 2 tarrinas de mantequilla de 150 g cada una. ¿Cuántos decigramos de mantequilla le sobran después de hacer el bizcocho?

PROBLEMA:



1 kg de queso cuesta 12 euros

¿Cuánto cuesta?

Medio kilogramo de queso: 12 : = euros

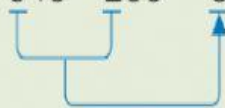
Un cuarto de kilo de queso: 12 : = euros

Ahora toca relajarse con el CÁLCULO MENTAL

CÁLCULO MENTAL

Resta centenas a números de tres cifras

$$546 - 200 = 346$$



$$325 - 100$$

$$753 - 400$$

$$753 - 700$$

$$367 - 200$$

$$934 - 500$$

$$934 - 800$$

$$568 - 300$$

$$897 - 600$$

$$997 - 900$$