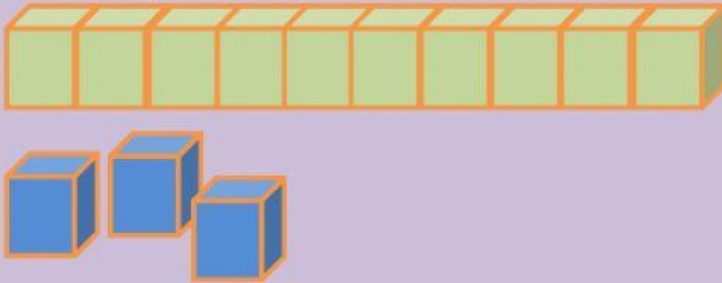


❖ რამდენი ათეული და რამდენი ერთეულია?

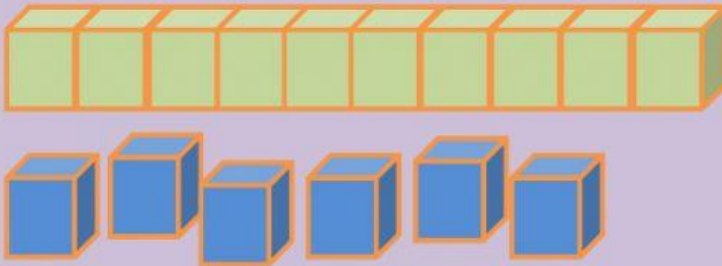


13

ცამეტი

ათეული _____

ერთეული _____

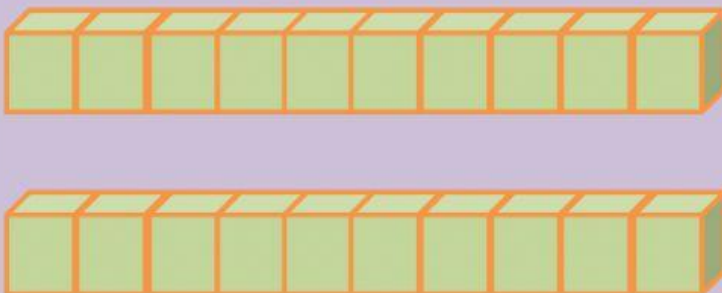


16

თექვსმეტი

ათეული _____

ერთეული _____



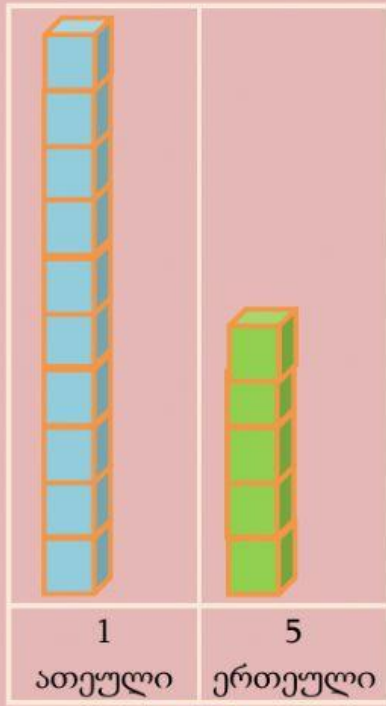
20

ოცი

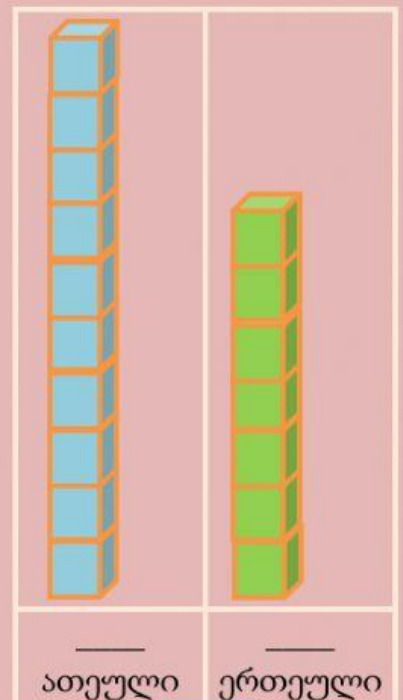
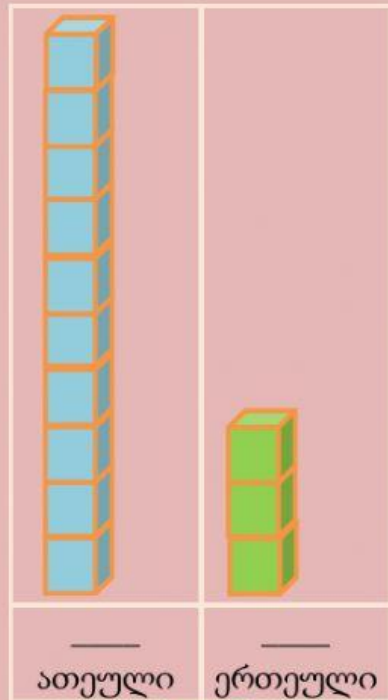
ათეული _____

ერთეული _____

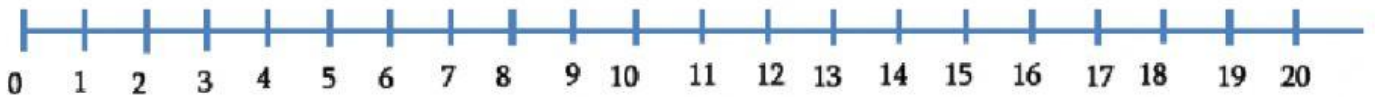
❖ ნიმუშის მიხედვით დაასახელეთ სათანადო რიცხვები. გააკეთეთ შესაბამისი ჩანაწერები.



15



❖ დაეხმარეთ მოსწავლეს, რიცხვითი ღერძის გამოყენებით შეასრულოს მოქმედებები და ჩაწეროს შედეგი:



$5 + 6 =$ $11 + 2 =$ $19 - 4 =$ $20 - 3 =$

$10 + 4 =$ $9 + 3 =$ $15 - 3 =$ $10 - 2 =$

$7 + 4 =$ $4 + 5 =$ $17 - 6 =$ $13 - 5 =$

Ts. N.