

GUIA DE ESTUDIO DE HISTORIA

Nombre: _____

Completa las expresiones seleccionando la repuesta correcta:

La Prehistoria es la edad más _____.

Empieza hace _____ de años.

Para estudiar la prehistoria no tenemos ningún documento _____.

Estudiamos la prehistoria a través de: _____
humanos y restos _____, como _____,
armas, pinturas.

Mueve la respuesta correcta, sobre el espacio.

La especie humana tuvo su origen en _____ hace
alrededor de 5 millones de años.

El Homo sapiens _____ (hombre actual) habitan
la Tierra desde hace _____ años.

La Prehistoria se divide en tres períodos: _____,
_____ y _____.

sapiens

paleolítico

neolítico

mesolítico

África

Relaciona con líneas, la descripción con el periodo.

Paleolítico hace unos 7,000 años

Mesolítico hace un millón de años

Neolítico hace unos 15,000 años

Escribe cada palabra correcta en el espacio.

El hombre vivía de la _____, la pesca y la _____.

Eran _____, es decir, se veían obligados a trasladarse en el momento en que la caza, la _____ o los frutos escaseaban en una determinada zona.

Vivían en _____ y _____.

Utilizaban el _____ para cocinar sus alimentos y para calentarse los días de frío.

Usaban las _____ de los _____ que cazaban, para vestirse.

Pulían y tallaban la _____, los _____ y las _____, para fabricar sus herramientas.


Se organizaban en _____, que eran pequeños grupos familiares.

La población era _____ porque la vida de las personas era muy corta. Muchos niños _____ al nacer y los _____ vivían pocos años.

Relaciona cada imagen con el homo correcto.



Homo sapiens sapiens



Homo sapiens



Homo Erectus



Homo Hábilis

Marca la respuesta correcta de las siguientes expresiones:

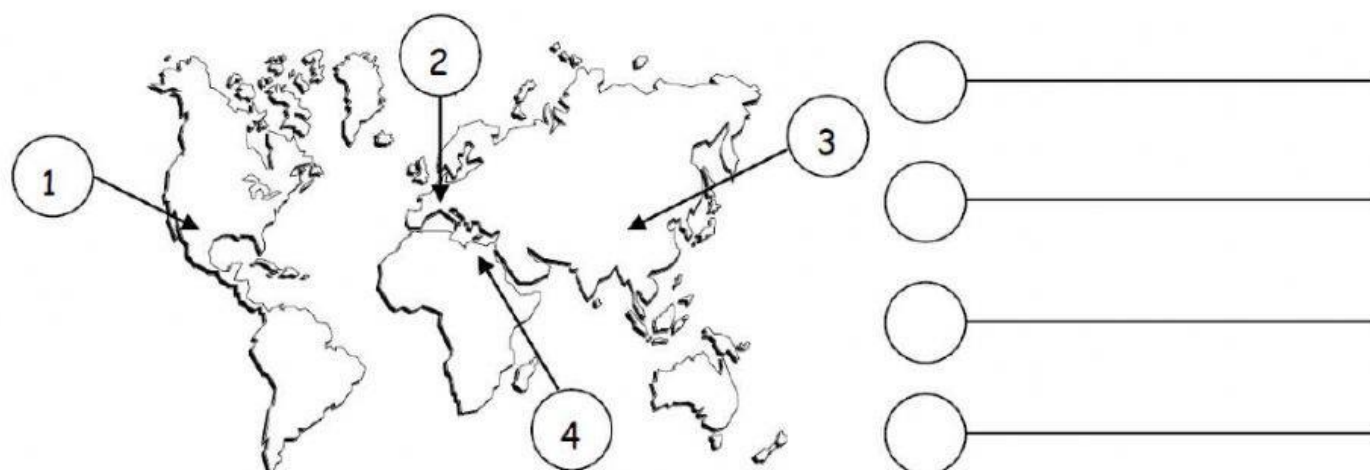
¿Cómo obtenían carne los seres humanos antes de ser cazadores?

¿Por qué razón el hombre prehistórico se convirtió en cazador?


¿Por qué los seres humanos, que eran cazadores y recolectores, eran también nómadas?

Observa la imagen y trata de explicar ¿por qué la cacería propició el desarrollo del lenguaje?

Escribe el número en el círculo y el nombre de los continentes, en las líneas, en orden, como fue poblando el homo sapiens.



Escribe sobre la línea, el tipo de vida que representa la imagen.



El _____ les permitió asentarse en un lugar.