
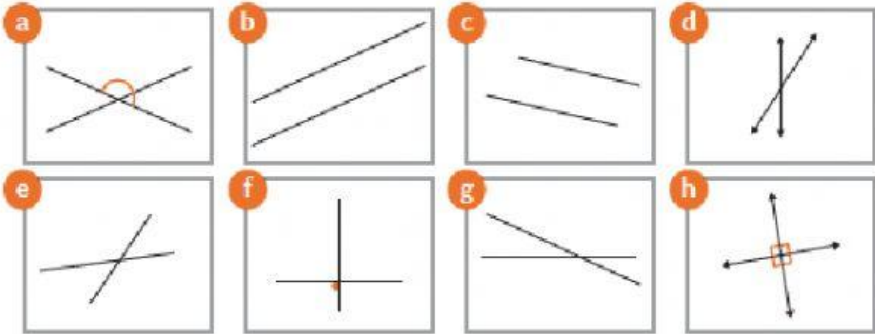

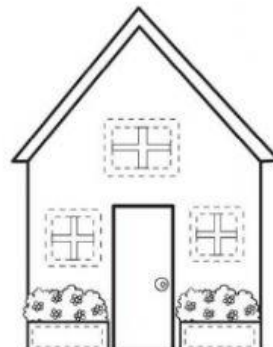




ESTUDIANTE:		Año Lectivo:
Grado o Curso: 7MO	Paralelo: A- B-C	2021 – 2022
Asignatura: MATEMÁTICA		Fecha:

DESTREZAS CON CRITERIOS DE DESEMPEÑO	Actividades a Desarrollar	VALOR						
M.3.2.2. Determinar la posición relativa de dos rectas en gráficos (paralelas, secantes y secantes perpendiculares).	<p>1. Seleccione la respuesta correcta según el tipo de rectas.</p>  <p>2. Indique los literales que corresponden a cada nombre</p>  <table border="1" data-bbox="411 1659 876 1868"> <tr> <td>Paralelas</td> <td></td> </tr> <tr> <td>Secantes</td> <td></td> </tr> <tr> <td>Perpendiculares</td> <td></td> </tr> </table>	Paralelas		Secantes		Perpendiculares		
Paralelas								
Secantes								
Perpendiculares								

3. Seleccione que dibujo contiene las rectas paralelas, secantes y perpendiculares.



TOTAL

ELABORADO	APROBADO
DOCENTE: Lcda. Beatriz Idrovo Lcda. Alexandra Culcay Mgt. John Arévalo Dávila	VICERRECTORA: Lcda. Ximena Ramón
Firma: Fecha:	Firma: Fecha:

Rúbrica general

RÚBRICA DE EVALUACIÓN

CRITERIOS	INDICADORES CON LA VALORACIÓN			PUNTAJE
	3	2	1	
ENTREGA A TIEMPO SU TAREA	La estudiante respeta el día y hora para la presentación de su tarea.	La estudiante entregó su tarea el día acordado sin embargo varió su hora de entrega.	La estudiante no entrega la tarea.	
DATOS GENERALES (nombre, fecha y firma)	Cumple con todos los parámetros establecidos.	Cumple con el 50 % de los parámetros establecidos.	Cumple parcialmente con los parámetros establecidos.	
ORIGINALIDAD	Presenta un trabajo creativo y de autoría propia.	Presenta un trabajo parcialmente creativo y de autoría propia	Presenta un trabajo nada creativo y fiel copia.	
CONTENIDO	El desarrollo del contenido está completo y correcto (no tiene errores, no tiene faltas de ortografía).	El desarrollo del contenido está medianamente completo y tiene algunos errores.	El desarrollo del contenido está incompleto y tiene muchos errores	

