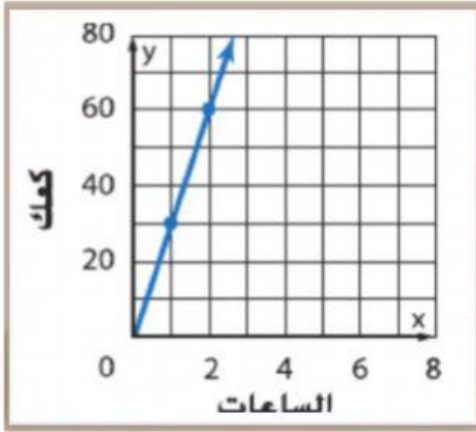


الاسم : الصف : الشعبة :

1. يتغير عدد الكعك الذي تم خبزه طردياً مع عدد الساعات التي يعملها متعهد تقديم الطعام. ما هي نسبة الكعك المخبوز إلى الساعات المنقضية في العمل؟



نظم البيانات في جدول من أجل ساعة وساعتين

x		
y		

اكتب قانون المعدل (ثابت التناسب):

المعدل $K = \text{_____}$

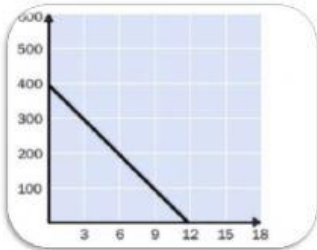
$K = \text{_____} =$

$K = \text{_____} =$

كعكة في الساعة

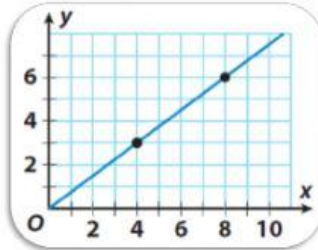
المعدل =

أي الرسوم تمثل تغير طردى :



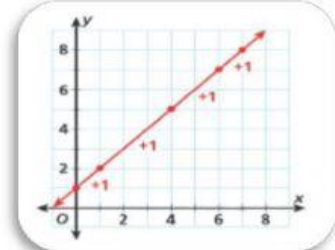
غير طردى

طردى



غير طردى

طردى



غير طردى

طردى