

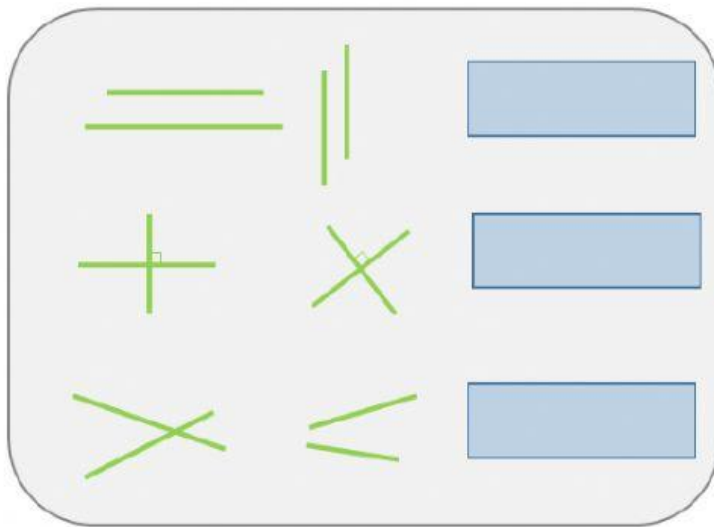
Lema:



Jean
Piaget

LINEAS Y RECTAS.

1.- Observa la imagen y arrastra el nombre de las siguientes líneas.



Líneas rectas
secantes.

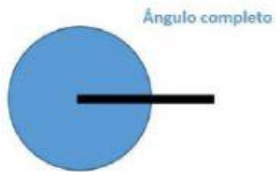
Líneas rectas
perpendiculares.

Líneas rectas
paralelas.


2.- Une con una línea el nombre del Ángulo con su característica.



Ángulo agudo



Ángulo completo



Ángulo cóncavo

Mide 360° ...

Mide más de 180° pero menos de 360° ...

Mide más de 90° pero menos de 180°

Mide menos de 90° ...

Mide 90° ...

Mide 180° ...



Ángulo recto



Ángulo llano



Ángulo obtuso

OPERACIONES MATEMATICAS.

3.- Resuelve las siguientes operaciones:

+	6	6	3	8		8	5	6	9			8	6	3					
	3	4	1	0	-	5	1	2	6			x	2	2	8	8	4	8	

+	8	0	8	9		9	7	6	6			4	8	3					
	6	8	3	5	-	2	7	1	7			x	4	8	5	9	6	6	