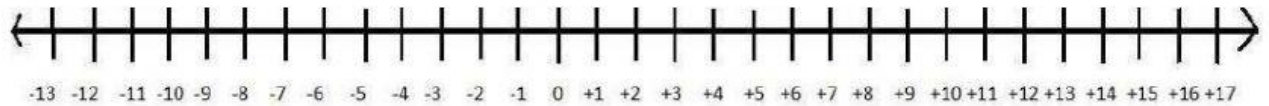


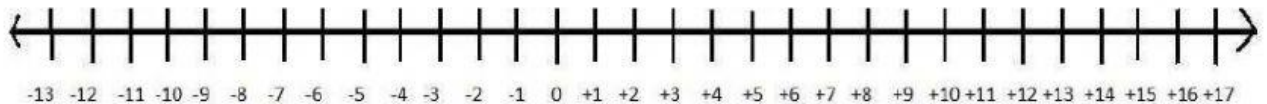
SUMA CON NÚMEROS ENTEROS

Vamos a considerar primero el siguiente ejemplo

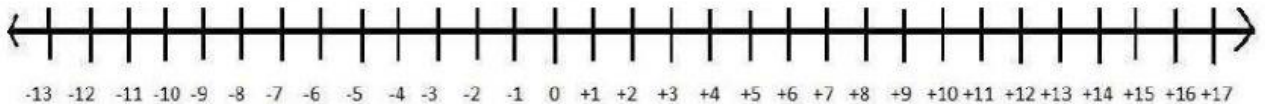
Se tiene que Juan camina 3 pasos hacia la derecha desde el punto de partida (0) y luego en la misma dirección 7 pasos se detiene un momento y decide continuar 5 pasos más en qué posición se quedó.



Se tiene que Paula camina desde el punto de partida (0) hacia la izquierda 4 pasos, luego continúa en la misma dirección 6 pasos y por último camina 2 pasos más



Lorena solicita prestado a Fernanda 3 dólares, luego de un momento le solicita 5 dólares más y por último le pide 4 dólares ¿Cuánto dinero debe a Fernanda en Total? .



Pablo por el día de su cumpleaños recibe de sus padres 1000 dólares; de su abuelo 100 dólares, su tío le entrega la cantidad de 45 dólares y su tía le entrega 55 dólares ¿Cuánto dinero tiene Pablo en total?

Resuelva los siguientes ejercicios:

a) $-9 - 8 =$

b) $+12 + 7 =$

c) $-3 - 2 =$

d) $+14 + 8 =$

e) $-14 - 1 =$

f) $+8 + 12 =$

g) $-1 - 1 =$

h) $+8 + 17 =$

i) $-22 - 20 =$

j) $+2 + 3 + 7 =$

k) $-2 - 2 - 4 =$

l) $+8 + 9 + 10 =$

Complete los siguientes cuadrados:

+	+1	+15
+1		
+17		

+	-8	-8
-7		
-10		

+	-25	-7
-32		
-11		

+	-11	-14	-26
-11			
-17			
-20			

+	+48	+29	+47
+37			
+14			
+28			