



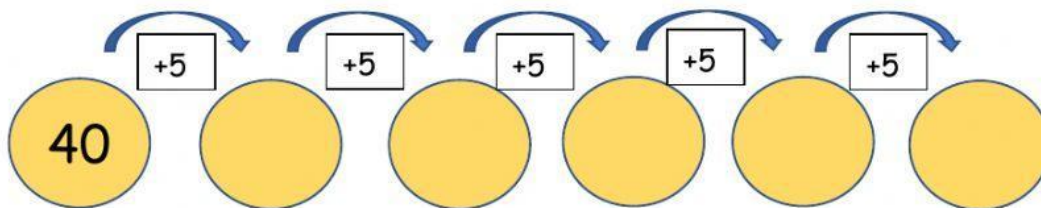
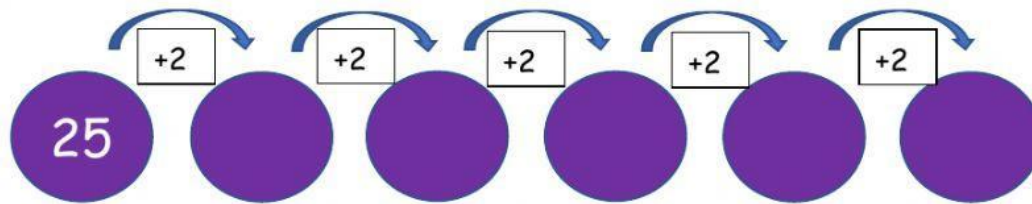
Evaluación de suma de números

Nombre: _____ Curso: _____

Objetivo: Evaluar la adicción de números mayores de 10.

Calculo mental.

1. Completa las siguientes operaciones.



D	U
2	3
+2	0

D	U
5	5
+4	2

D	U
6	3
+3	0

Problemas matemáticos.

1. Resuelve el siguiente problema matemático.

Pablo tiene una caja con 16 autitos de juguete. Su hermano le regalo 12 autos más. ¿Cuántos autitos de juguete tiene en total?



A. ¿Qué operación debo realizar? Marca la alternativa correcta.




B. ¿Qué alternativa corresponde a la frase numérica es? Marca la alternativa correcta.

$$\begin{array}{r} 16 \\ + 12 \\ \hline 27 \end{array}$$

$$\begin{array}{r} 16 \\ - 12 \\ \hline 28 \end{array}$$

$$\begin{array}{r} 16 \\ + 12 \\ \hline 28 \end{array}$$

C. ¿Qué alternativa me muestra el resultado en decenas y unidades del problema anterior? Marca la alternativa correcta.



2. Resuelve el siguiente problema matemático.

Carla ahorro \$70 y su abuela le regaló \$23.
¿Cuánto dinero tiene?



A. ¿Qué operación debo realizar? Marca la alternativa correcta.



B. ¿Qué alternativa corresponde a la frase numérica? Marca la alternativa correcta.


$$\begin{array}{r} 70 \\ - 23 \\ \hline 57 \end{array}$$

$$\begin{array}{r} 70 \\ + 23 \\ \hline 93 \end{array}$$


$$\begin{array}{r} 70 \\ + 23 \\ \hline 83 \end{array}$$

C. ¿Qué alternativa me muestra el resultado en decenas y unidades del problema anterior? Marca la alternativa correcta.

1.



2.



3. Resuelve el siguiente problema matemático.

Hoy mi mamá compró 40 mascarillas y mi papá trajo 5 más. ¿Cuántas mascarillas tenemos para nuestra familia?



A. ¿Qué operación debo realizar? Marca la alternativa correcta.



B. ¿Qué alternativa corresponde a la frase numérica? Marca la alternativa correcta.

$$\begin{array}{r} 40 \\ + 5 \\ \hline 90 \end{array}$$

$$\begin{array}{r} 40 \\ + 5 \\ \hline 50 \end{array}$$

$$\begin{array}{r} 40 \\ + 5 \\ \hline 45 \end{array}$$

C. ¿Qué alternativa me muestra el resultado en decenas y unidades del problema anterior? Marca la alternativa correcta.

