





NAMA :

KELAS :

A	B	C	D
			

E	F	G	H
			

I	J	K	L
			

Berdasarkan tabel di atas, pasangkanlah antara ikon dan fungsinya

1. Ikon yang digunakan untuk mengubah tipe huruf adalah
2. Tombol yang digunakan untuk menghidupkan komputer adalah
3. Ikon yang digunakan untuk membuat tulisan menjadi rata kanan dan kiri adalah
4. Ikon yang digunakan untuk memberi garis bawah pada tulisan adalah
5. Ikon yang digunakan untuk membuat tulisan bercetak tebal adalah

6. **Ikon yang digunakan untuk memberi penomoran pada teks adalah**
7. **Ikon yang digunakan untuk membuat tulisan bercetak miring adalah**
8. **Ikon yang digunakan untuk mengubah ukura huruf adalah**
9. **Ikon yang digunakan untuk tulisan menjadi rata tengah adalah**
10. **Ikon yang digunakan untuk membuat tulisan rata kiri adalah**