


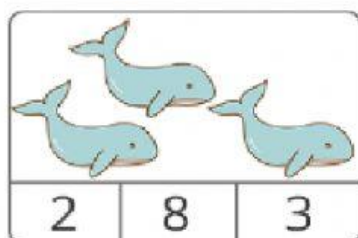
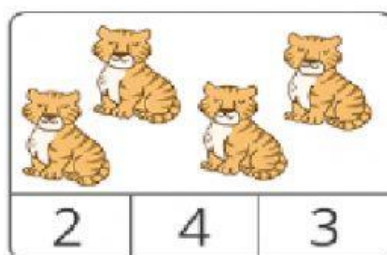
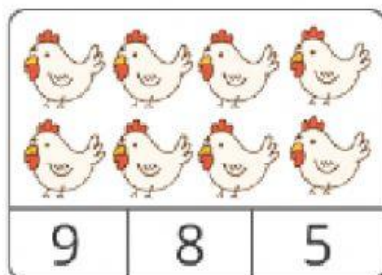


## EVALUACIÓN DIAGNÓSTICA

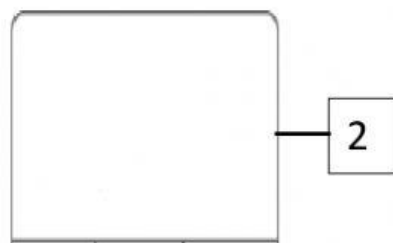


### ÁMBITO: RELACIONES LÓGICO MATEMÁTICAS

NOMBRE Y APELLIDO: ..... GRADO: 2do "A" "B" "C" "D" "E"

1.- Cuenta los elementos y selecciona el número correcto.



2.- Cuenta y arrastra los elementos que falten para completar cada conjunto de acuerdo al número que tiene cada uno.

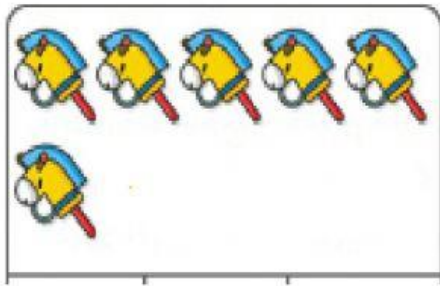




# ESCUELA DE EDUCACIÓN BÁSICA "ALONSO DE ILLESCAS"

Barrio: Matilde Álvarez/ Calle Ferdinand N° 555-215 Y Calle 1

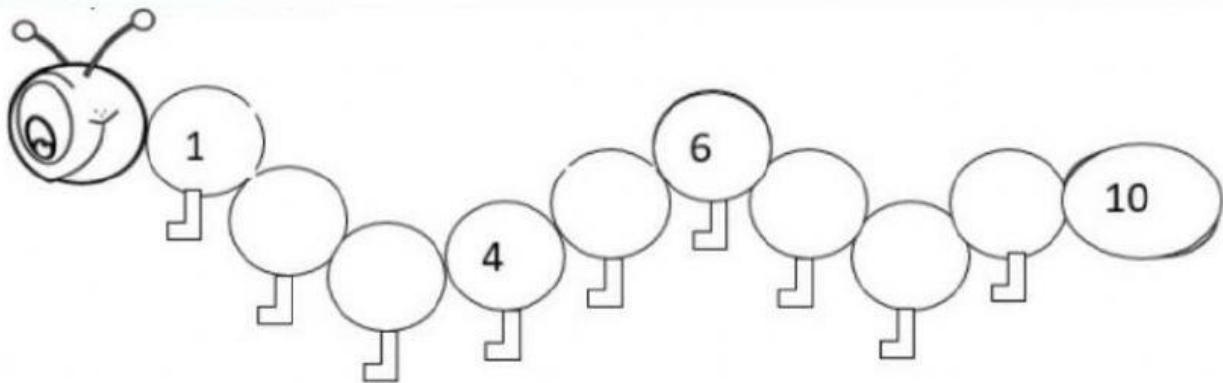
Teléfono: 022694546 / 17h00125@gmail.com



10





3.- Completa los números que faltan en la serie numérica del 1 al 10.





4.- Observa las imágenes, completa la secuencia según la consigna que escuches a tu maestra.

¿Qué color sigue?



¿Que frutas siguen?









5.- Resuelve las siguientes sumas y arrastra el resultado a donde corresponda.



# ESCUELA DE EDUCACIÓN BÁSICA "ALONSO DE ILLESCAS"

Barrio: Matilde Álvarez/ Calle Ferdinand N° 555-215 Y Calle 1

Teléfono: 022694546 / 17h00125@gmail.com

 + 	
 + 	
 + 	

4

6

5

6.- Resuelve las siguientes retas y arrastra el resultado a donde corresponda


$6-4=$

$8-3=$

$9-2=$



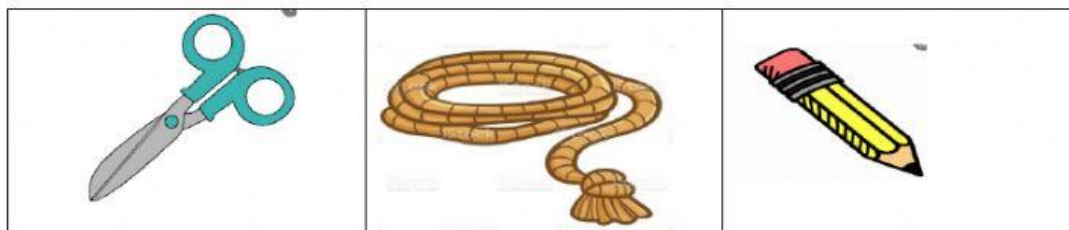
7.- Observa y selecciona los peces que miran hacia la izquierda.



8.- Selecciona el objeto que cumpla con las siguientes condiciones:

1) El objeto más largo.





2.- Un perro es más grande que...



3.- Un coche pesa más que....



9.- Ordena estos animales de menor a mayor tamaño, ubicando los números según corresponda.



1

2

3

4

5

6




# ESCUELA DE EDUCACIÓN BÁSICA "ALONSO DE ILLESCAS"

Barrio: Matilde Álvarez/ Calle Ferdinand N° 555-215 Y Calle 1

Teléfono: 022694546 / 17h00125@gmail.com

10.- Señala el conjunto que contenga más elementos.



ELABORADO POR:	REVISADO POR:	APROBADO POR:
Lic. Gloria Chimbolema Lic. Cecilia Narváez Lic. Rita Hidalgo Lic. Margoth Hurtado Lic. Gabriela Ávila TUTORAS	Lic. Mayra Guevara COORDINADORA DEL NIVEL	Lic. Marianita Villota DIRECTORA
FIRMAS: ..... .....	FIRMA: .....	FIRMA: .....
FECHA: 23 -09-2021	FECHA: 24 - 09- 2021	FECHA: