

# MULTIPLICACIONES

## I. Completa los ejercicios


a)



	botellas		litros en cada botella		litros
--	----------	--	------------------------	--	--------

$$\square \cdot \square = \square$$

b)



$$\square \cdot \square = \square$$

c)



$$\square \cdot \square = \square$$



II. Arrastra los resultados sobre su multiplicación correspondiente:

16

10

35

8

60

11

15

$6 \cdot 10$

$3 \cdot 5$

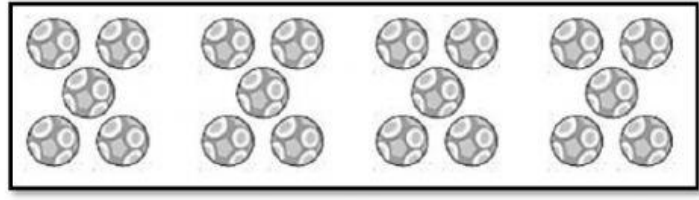

$8 \cdot 2$

$4 \cdot 2$

$1 \cdot 10$

$7 \cdot 5$

III. Marca la imagen que muestra 4 veces 5:



IV. Marca la multiplicación que resulta en 20:

$10 \cdot 10$

$4 \cdot 5$