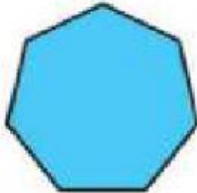


NOME: _____ 7º Ano - Aula 20

Liga cada polígono ao seu nome.

(Pesquise na internet se necessário)



Octógono

Triângulo

Pentágono

Quadrado

Hexágono


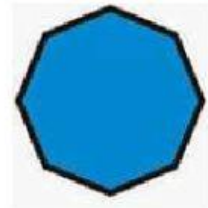
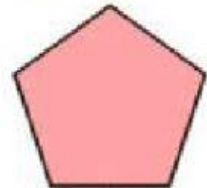

Retângulo

Heptágono

Paralelogramo

Losango

Trapézio



Resolve:

Um canteiro circular tem 2 metros de raio. Quantos metros uma pessoa percorre se der:



A) uma volta completa em torno do canteiro.

B) dez voltas completas em torno do canteiro.

Lembre-se!

$$C = 2.\pi.R \text{ ou } C = d.\pi$$