

Bảng cộng 9

TÊN:

LỚP:

NGÀY:

GIÁO VIÊN:

$$9 + 2 = ?$$

Bước 1 tách: $2 = 1 + \dots$

Bước 2: $9 + 1 = \dots$

Bước 3: $10 + \dots = \dots$

Vậy: $9 + 2 = \dots$

$$9 + 3 = ?$$

Bước 1 tách: $3 = 1 + \dots$

Bước 2: $9 + 1 = \dots$

Bước 3: $10 + \dots = \dots$

Vậy: $9 + 3 = \dots$

$$9 + 4 = ?$$

Bước 1 tách: $4 = 1 + \dots$

Bước 2: $9 + 1 = \dots$

Bước 3: $10 + \dots = \dots$

Vậy: $9 + 4 = \dots$

$$9 + 6 = ?$$

Bước 1 tách: $6 = 1 + \dots$

Bước 2: $9 + 1 = \dots$

Bước 3: $10 + \dots = \dots$

Vậy: $9 + 6 = \dots$

$$9 + 8 = ?$$


Bước 1 tách: $8 = \dots + \dots$


Bước 2: $9 + 1 = \dots$


Bước 3: $10 + \dots = \dots$

Vậy: $9 + 8 = \dots$

Bảng cộng 9

$$9 + 3 = 10 + \dots = \dots$$


$$9 + 5 = 10 + \dots$$


$$9 + 7 = 10 + \dots = \dots$$


$$9 + 9 = 10 + \dots = \dots$$
