







Escribe el número que va antes y el que va después de cada uno de estos.



ESCRIBE DE QUÉ NÚMERO SE TRATA EN CADA CASO

<b>Treinta y siete</b>	
<b>Cuatro decenas y tres unidades</b>	
<b>Cincuenta y dos</b>	
<b>Cero unidades y dos decenas</b>	
<b>Ochenta y dos</b>	
<b>Quince</b>	
<b>Nueve</b>	
<b>Una unidad</b>	
<b>Cuarenta unidades</b>	
<b>Once</b>	
<b>Veintinueve</b>	
<b>Tres unidades y tres decenas</b>	
<b>Cero decenas y dos unidades</b>	
<b>Ocho decenas y una unidad</b>	
<b>Setenta y cinco</b>	
<b>Noventa y dos</b>	
<b>Seis unidades y una decena</b>	
<b>Tres decenas y cero unidades</b>	

Completa la tabla del 100

¿Qué número corresponde a cada dibujo?

