

COLEGIO CRISTIANO AGUA DE VIDA  
EVALUACIÓN CUARTO BIMESTRE  
CICLO ESCOLAR 2021



Profesora: Heidy Martinez

**MATEMÁTICAS PRIMERO PRIMARIA**

**INSTRUCCIONES GENERALES:** Lee con atención y revisa tu evaluación antes de enviarla. Trabaja solo, sin ayuda de tus padres ni folletos. Valor 15pts.

**I SERIE: Valor 03pts. 1 pt. C/u**

**INSTRUCCIONES:** Une con una flecha el reloj con la hora correcta.



La una y media

Las cuatro menos diez

Las once y diez

**II SERIE: Valor 02pts. 1 pt. C/u**

**INSTRUCCIONES:** Une con una flecha el reloj con la hora correcta.



Q.

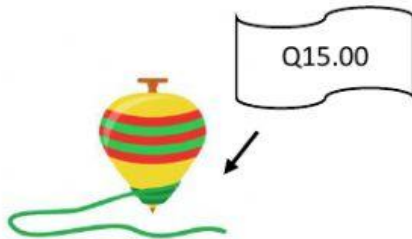




Q.

III SERIE: Valor 04pts. 1 pt. C/u

INSTRUCCIONES: Resuelve los siguientes problemas.

Ayer Hugo fue con su papá a una juguetería. Vio muchos juguetes que le llamaron la atención.



1. ¿Cuánto gastarías si compra un carrito y un dinosaurio?

Q
Q
Q

2. ¿Cuánto gastarías si compra un dinosaurio y un rompecabezas?

Q
Q
Q

4. ¿Cuánto gastarías si compra un carrito y un trompo?

Q
Q
Q

3. ¿Cuánto gastarías si compra un rompecabezas y un trompo?

Q
Q
Q

IV SERIE: Valor 03pts. 1 pt. C/u

INSTRUCCIONES: Escribe el anterior y posterior del día y mes. Escribe con letra minúscula.

Ayer

Hoy

Mañana

sábado

Mes anterior

Mes actual

Mes posterior

abril

septiembre

IV SERIE: Valor 03pts. 1 pt. C/u

INSTRUCCIONES: Resuelve las siguientes divisiones.

$$\begin{array}{r} 2 \overline{) 156} \\ \underline{\phantom{00}} \\ \phantom{00} \end{array}$$

$$\begin{array}{r} 7 \overline{) 368} \\ \underline{\phantom{00}} \\ \phantom{00} \end{array}$$

$$\begin{array}{r} 8 \overline{) 428} \\ \underline{\phantom{00}} \\ \phantom{00} \end{array}$$