



Objetivo: Calcular longitudes en objetos de su vida cotidiana.

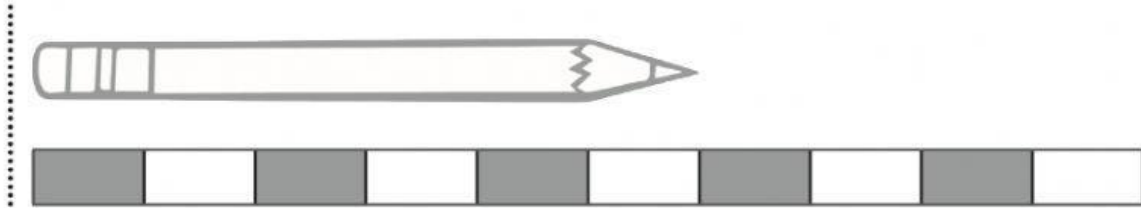


Matemática
Medición

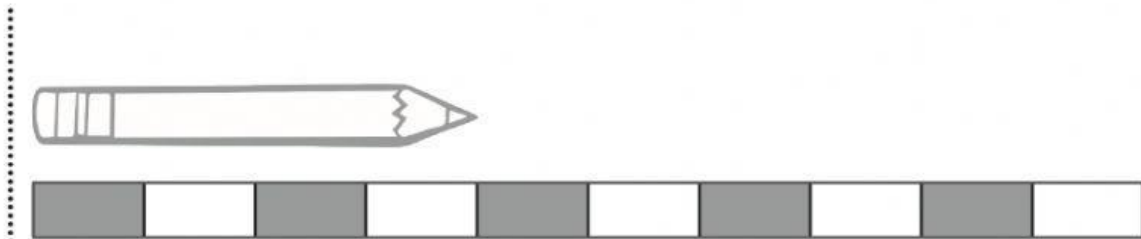
Midiendo longitudes 2

1- Calcula cuántos bloc de largo mide cada lápiz y responde en las líneas.

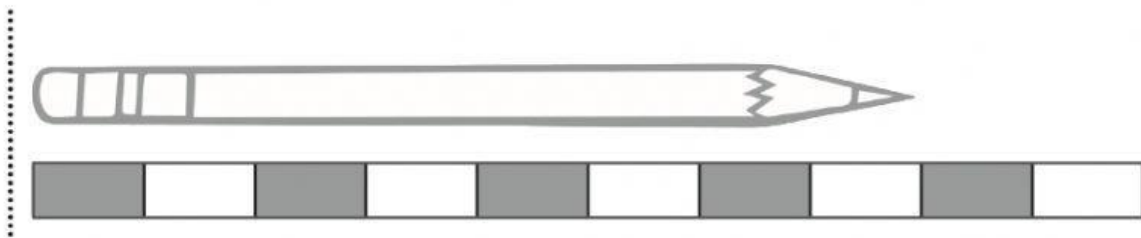
a. Este lápiz mide _____ blocs de largo.



b. Este lápiz mide _____ blocs de largo.



c. Este lápiz mide _____ blocs de largo.



2. Responde, encerrando la respuesta correcta:

a. ¿Cuál es el lápiz más largo?

a b c

b. ¿Cuál es el lápiz más corto?

a b c

c. ¿Cuántos blocs es más largo el lápiz c que el lápiz b?

2 3 4

d. ¿Cuántos blocs es más corto el lápiz b que el lápiz a?

1 2 3

Midiendo longitudes

Observa, calcula y responde, en la línea, cuántas mariposas mide cada objeto.

1. El hueso mide _____ mariposas de largo.



2. El tiburón de juguete mide _____ mariposas de largo.



3. El lápiz mide _____ mariposas de largo.



4. La tijera mide _____ mariposas de largo.

