



**GIMNASIO DOMINGO SAVIO®**  
"En unión y compromiso formamos líderes dominguinos"  
**Proceso Misional: GESTIÓN ACADÉMICA**  
**FRACCIÓN DE UN CONJUNTO**



SC-CER728672


¿SABES  
REPRESENTAR PARTES  
DE UN CONJUNTO CON  
FRACCIONES?



Hay 5 frutas en total. De estas, 4 son melones.  
Como fracción se representa:

—→ Frutas que son melones  
—→ Total de frutas

**1** Observa cada grupo y luego contesta.





- ¿Cuántos peces hay? \_\_\_\_\_
- ¿Cuántos peces son amarillos? \_\_\_\_\_
- ¿Cuántos peces son violeta? \_\_\_\_\_




- ¿Cuántos objetos hay? \_\_\_\_\_
- ¿Cuántos cascos hay? \_\_\_\_\_
- ¿Cuántas hachas hay? \_\_\_\_\_

**2** Colorea de acuerdo con las claves.

 Dos de los once círculos.

 Siete de los once círculos.

¿Cuántos círculos quedan sin colorear? \_\_\_\_\_



"Dominguinos: siempre alegres; Dominguinos: siempre amables"