

1. Berapa nilai pecahan pada gambar berikut



- a. $\frac{1}{2}$
- b. $\frac{1}{3}$
- c. $\frac{1}{4}$

2. Pada bilangan $\frac{1}{3}$, manakah yang disebut dengan "penyebut" ...

- a. 1
- b. 2
- c. 3

3. Pada bilangan $\frac{1}{3}$, manakah yang disebut dengan "pembilang" ...

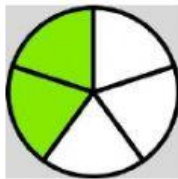
- a. 1
- b. 2
- c. 3

4. Ali mempunyai pizza yang ia potong menjadi 8 potong sama besar. Satu bagian dari delapan bagian pizza memiliki nilai ...




- a. $\frac{1}{6}$
- b. $\frac{1}{3}$
- c. $\frac{1}{8}$

5. Bagian yang berwarna hijau memiliki nilai pecahan sebesar ...

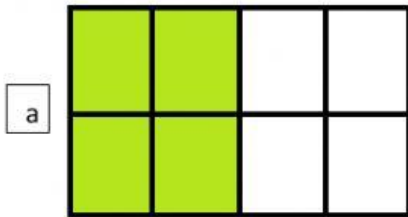


- a. $\frac{2}{5}$
- b. $\frac{1}{5}$
- c. $\frac{5}{2}$


6. Masukkanlah kotak berwarna merah pada kotak-kotak yang tersedia, dengan nilai pecahan $\frac{2}{6}$




7. Berilah garis panah pada bilangan pecahan yang sesuai dengan gambar dibawah ini



$$\frac{1}{2}$$



$$\frac{2}{4}$$



$$\frac{4}{8}$$