

SOAL PENILAIAN TENGAH SEMESTER (PTS) 1

Tanda Tangan Wali Murid 	Tema : 1 (Hidup Rukun) Kelas : II (dua) Hari/Tanggal : Waktu : 90 menit Nama :	Paraf Guru
---	--	---------------

Nilai

PPKn	B. Indo	Matematika			PJOK	SBdP			
KD. 3.1	KD. 3.1	KD. 3.1	KD. 3.2	KD. 3.3	KD. 3.1	KD. 3.1	KD. 3.2	KD. 3.3	KD. 3.4

PPKn KD 3.1

- Lambang negara Indonesia adalah....
 - Indonesia Raya
 - Garuda Pancasila
 - Bhinneka Tunggal Ika

- Simbol sila "*Persatuan Indonesia*" adalah....

		
A	B	C

Sumber soal: koleksisoalsd.blogspot.com

- Yang wajib menjaga kebersihan rumah adalah....
 - tetangga sekitar
 - pemerintahan desa
 - semua anggota keluarga
- Kegiatan yang sesuai dengan sila ke-3 adalah....
 - upacara bendera
 - beribadah sesuai keyakinan
 - membantu korban bencana alam
- Musyawarah menentukan lagu untuk pentas seni adalah sikap yang sesuai dengan sila ke-....
 - 3
 - 4
 - 5
- Dasar negara kita adalah....
- Perhatikan gambar di bawah ini!



Kalimat sila yang sesuai dengan lambang di atas adalah....

- Tuliskan contoh sikap yang sesuai dengan sila ketiga ketika bermain!

B. Indonesia KD 3.1

9. Perhatikan gambar di bawah ini!



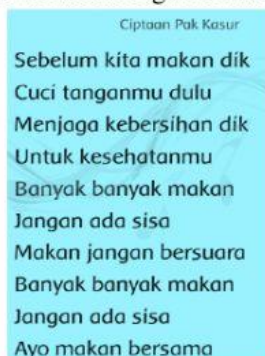
Yang diucapkan oleh guru olahraga di atas adalah kalimat....

- A. ajakan
 - B. perintah
 - C. penolakan
10. Contoh kalimat penolakan yang baik adalah....
- A. Tidak mau, ah. Saya malas mengerjakan piket.
 - B. Maaf, saya tidak bisa ikut bermain.
 - C. Jangan kau ganggu dia.
11. Di bawah ini yang termasuk kalimat ajakan adalah....
- A. Ayo, kita ke rumah Ali.
 - B. Tidak, saya sibuk hari ini.
 - C. Berbarislah sebelum masuk kelas!
12. Perhatikan gambar di bawah ini!



Kalimat penolakan ditunjukkan oleh nomor....

- A. 1
 - B. 2
 - C. 3
13. Kalimat penolakan biasanya ditandai dengan kata....
- A. maaf
 - B. siap
 - C. oke
14. Perhatikan lagu di bawah ini!



Kalimat perintah yang terdapat pada lirik lagu di atas adalah....

www.koleksisoalsd.blogspot.com

15. Perhatikan gambar di bawah ini!



Kalimat ajakan yang tepat untuk melengkapi percakapan di atas adalah....

16. Perhatikan gambar di bawah ini!



Buatlah 1 kalimat perintah yang sesuai dengan gambar di atas!

Matematika KD 3.1

17. Perhatikan gambar di bawah ini!



Banyaknya buku pada gambar di atas adalah....

- A. 57
- B. 50
- C. 7

18. Perhatikan gambar di bawah ini!



Kubus di atas menggambarkan kan bilangan....

- A. 445
- B. 454
- C. 544

Matematika KD 3.2

19. Bandingkan kubus Udin dan kubus Edo di bawah ini!



Pernyataan yang benar adalah....

- A. Kubus Udin lebih banyak dari pada kubus Edo
- B. Kubus Edo lebih banyak dari pada kubus Udin
- C. Kubus Udin sama dengan kubus Edo

20. **225** ... **252**

Tanda yang tepat untuk mengisi titik-titik di atas adalah....

- A. >
- B. <
- C. =

21. Perhatikan gambar di bawah ini!



Gambar di atas yang menunjukkan angka yang paling banyak adalah....

- A. Gambar 1
- B. Gambar 2
- C. Gambar 3

Matematika KD 3.3

22. Perhatikan gambar di bawah ini!



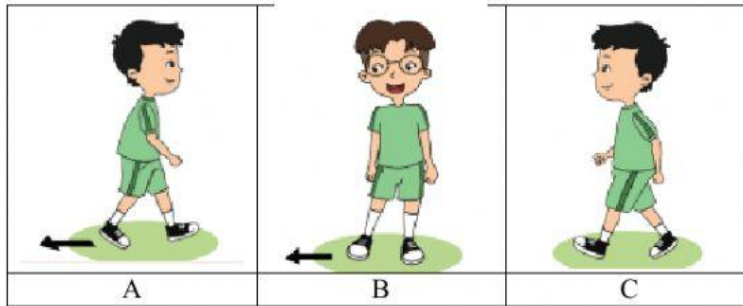
Jumlah seluruh siswa adalah....

23. Hasil dari **515** + **349** adalah

24. Bu Guru memiliki 275 lembar kertas. Kertas itu dibagikan kepada 39 siswa. Bila masing-masing siswa menerima 1 lembar kertas, berapa sisa kertas Bu Guru?

PJOK KD 3.1

25. Gambar anak berjalan ke samping adalah....



26. Perhatikan gambar di bawah ini!



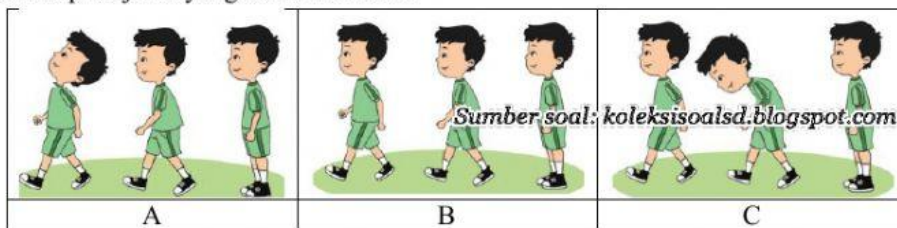
Mereka sedang menirukan cara berjalan....

- A. bebek
- B. kucing
- C. kelinci

27. Hewan di bawah ini yang berjalan dengan cara merayap adalah....

- A. ayam
- B. katak
- C. ular

28. Sikap berjalan yang benar adalah....



29. Gambar di bawah ini yang mempraktikkan lari panjang adalah....



30. Perhatikan gambar di bawah ini!



Mereka sedang memainkan permainan....

31. Cara berjalan yang benar, bila kaki kanan melangkah ke depan, yang melambai ke depan adalah tangan....

32. Jelaskan cara lari berpasangan!

SBdP KD 3.1


33. Perhatikan gambar di bawah ini!



Alat yang digunakan untuk menggambar di atas adalah....

- A. pensil
- B. krayon
- C. cat minyak

34. Perhatikan gambar di bawah ini!



Di atas adalah sketsa gambar....

- A. burung
- B. ayam
- C. bebek

SBdP KD 3.2

35. Pada sebuah lagu yang dinyanyikan, bunyi panjang terdengar lebih....

- A. lama
- B. pelan
- C. pendek

36. Perhatikan penggalan lagu “*Peramah dan Sopan*” di bawah ini!

Bu-kan-nya cong-kak
... ..
Bu-kan-nya som-bong
... ..

Suku kata yang mendapat tekanan kuat adalah suku kata bernomor....

- A. 1
- B. 2
- C. 3

SBdP KD 3.3

37. Contoh gerakan tangan adalah....

- A. menggeleng
- B. melambai
- C. jinjit

38. Perhatikan gambar di bawah ini!



Gambar di atas merupakan contoh gerakan....

SBdP KD 3.4

39. Perhatikan gambar di bawah ini!



Bahan yang digunakan untuk membuat karya di atas adalah....

40. Jelaskan cara membuat karya kolase dari biji-bijian!
