



FIGURAS GEOMÉTRICAS

1. COLOCA CADA FIGURA PLANA EN SU LUGAR



Rectángulo

Triángulo

Cuadrado

Círculo

Pentágono

Rombo

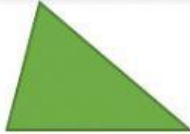

Trapecio

¿Cuántos lados tiene cada figura? Escribe



2. CLASIFICA LOS TRIÁNGULOS

Según sus lados iguales



3 lados iguales

2 lados iguales

0 lados iguales

Según sus ángulos




Menores de 90°

1 mayor de 90°

1 de 90° exactos

3. CLASIFICA LOS CUADRILATEROS




Todos tienen 4 lados, pero hay distintos tipos




4. COLOCA CADA CUERPO GEOMÉTRICO 3D




Cubo




Cilindro



Cono



Esfera



Pirámide

