


# ¡Es hora de medir!




1. ¿Cuántas pulgadas miden 2 pasteles juntos?



8 pulgs

9 pulgs




2. ¿Cuántas pulgadas mide la salchicha roja?




3 pulgs

4 pulgs




3. ¿Cuántas pulgadas miden la hamburguesa de Carlos?




3 pulgs

4 pulgs




4. ¿Cuántas pulgadas miden el pollo frito de mi amigo?



4 pulgs

5 pulgs



5. ¿Cuántas pulgadas miden la hamburguesa de Carlos?



6 pulgs

7 pulgs




# ¿Pulgadas, pies o yardas?



Pulgadas

Pies

Yardas



Pulgadas

Pies

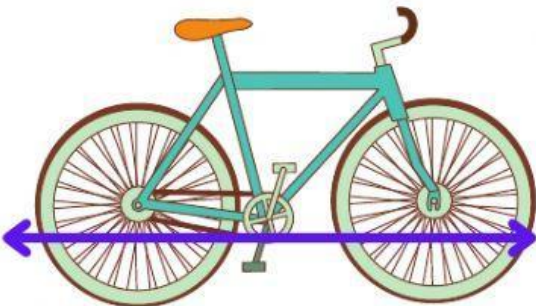
Yardas



Pulgadas

Pies


Yardas



Pulgadas

Pies

Yardas



Pulgadas

Pies

Yardas

# ¿Cuánto mide?

- La bicicleta de Victor mide 1 YARDA. ¿Cuántas pulgadas mide de largo?

24  
Pulgadas

36  
Pulgadas

- Omar colocó 4 reglas de 12 pulgadas para medir la entrada de su casa.  
Y dijo que medía 3 pies. ¿Es correcto?

FALSO porque  
son 4 pies

VERDADERO porque  
si son 3 pies

¡Muy buen trabajo!