

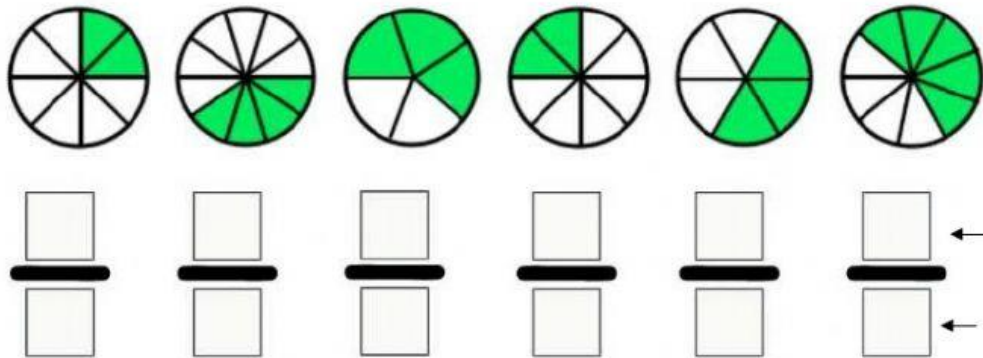
FRACCIONES

NOMBRE:

FECHA:

5º

1 Representa en fracción después escribe las partes de las fracciones en la última.



2 Escribe como se lee cada fracción, después , responde a las siguientes preguntas:

- a) $\frac{2}{8}$ →
- b) $\frac{4}{7}$ →
- c) $\frac{5}{7}$ →
- d) $\frac{3}{10}$ →

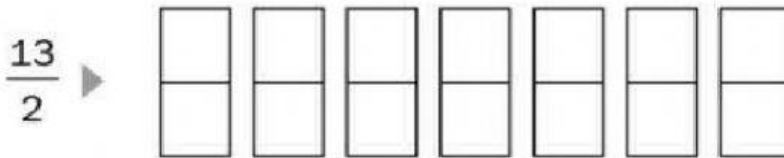

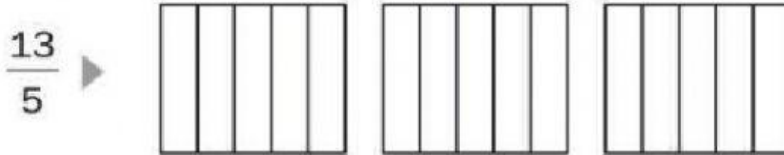

► ¿Cual es el número que esta en el numerador?

- a)
- b)
- c)
- d)

► ¿Cual es el número que esta en el denominador?

- a)
- b)
- c)
- d)

3 Colorea la fracción que representa.



4 Escucha el audio y marca la respuesta correcta sobre la fracción que se representa.


☐

☐

☐

☐


(REPASA) REALIZA ESTAS OPERACIONES . (1/1)

$$\begin{array}{r} 3503 \\ +6700 \\ \hline \end{array}$$

$$\begin{array}{r} 6999 \\ -3477 \\ \hline \end{array}$$

$$\begin{array}{r} 3444 \\ \times \quad 3 \\ \hline \end{array}$$

FICHA ECHA POR DAVID_ 2011
Descarga aquí la ficha para poder
Imprimirla.

