


Nombre del estudiante: _____ **Grado Segundo**


Para resolver el siguiente cuestionario recuerda lo visto en clase durante el primer periodo, antes de responder cada pregunta léela muy bien y atiende al video instructivo.


1. **Observa las siguientes imágenes, luego:**

- Arrastra formando conjuntos con los objetos que tengan características en común
- Ponle nombre a cada conjunto
- Escribe su característica común sobre la línea



☐


☐


☐


2. De los anteriores conjuntos escoge uno y:

a. Escríbelo por extensión

— { _____ }

b. Escríbelo por comprensión

— { _____ }

3. Observa los elementos del conjunto **A**. Luego, escribe **si** (**ε**) o **no** (**∉**).

A

18

28

38

48

58

68

24 ____ A
18 ---- A
45 ____ A
68 ---- A
59 ____ A

48 ____ A
76 ---- A
28 ____ A
36 ____ A
38 ____ A

4. Observa los datos que se recogieron en una encuesta sobre el género de cine favorito. Luego, resuelve

a. completa la tabla de datos

GENERO	Nº PERSONAS

acción

ficción

comedia

terror

ficción

acción

ficción

comedia

acción

terror

comedia

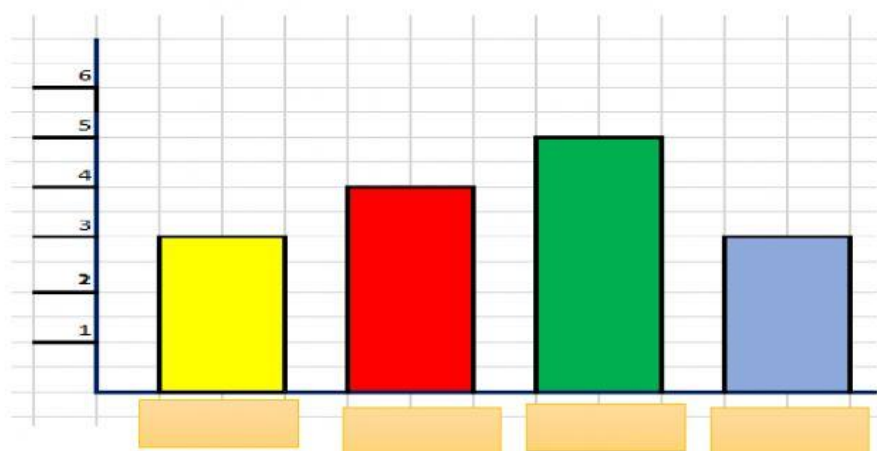
comedia

ficción

terror

comedia

b completa el grafico, escribiendo el género de cine donde corresponda, según los resultados.



c Responde:

¿Cuál género es el que más prefieren las personas? _____

¿Cuáles son los géneros que menos prefieren las personas? _____

¿Cuántas personas fueron encuestadas? _____

5. Da clic sobre el cuadro y escucha los números. Escríbelos



a. Escríbelos en cifras, luego en letras.

b. Ordena las cifras escuchadas de menor a mayor

c. En los números hay escondido un patrón numérico, hálalo y completa escribiendo los números que hacen falta

3.469

3.481