


Thứ năm, ngày 23 tháng 9 năm 2021

PHIẾU BÀI TẬP TOÁN

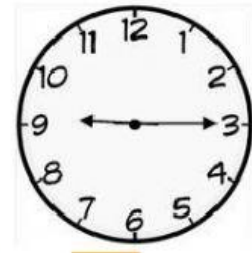
Bài 1. Đồng hồ chim mấy giờ:



giờ phút

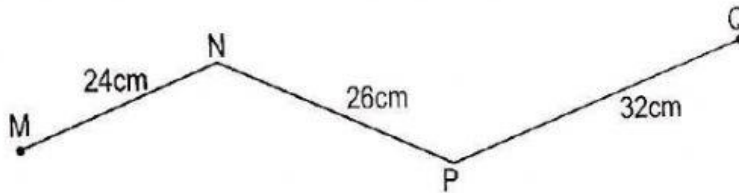


giờ phút



giờ phút

Bài 2. Tính độ dài đường gấp khúc MNPQ:



Bài giải

Độ dài đường gấp khúc là:

+ + = (cm)

Đáp số: cm

Bài 3. Giải bài toán theo tóm tắt sau:

Bài giải

Có: 6 giờ
Mỗi giờ: 4 quả táo
Tất cả: ... quả táo?

Số có tất cả là:

× = ()

Đáp số: