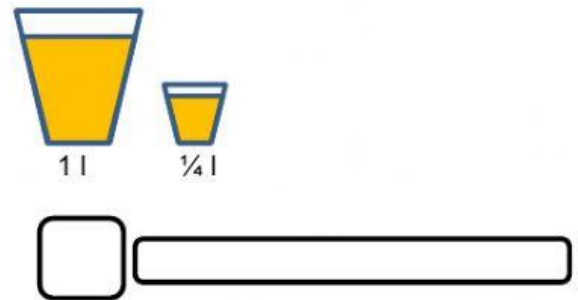
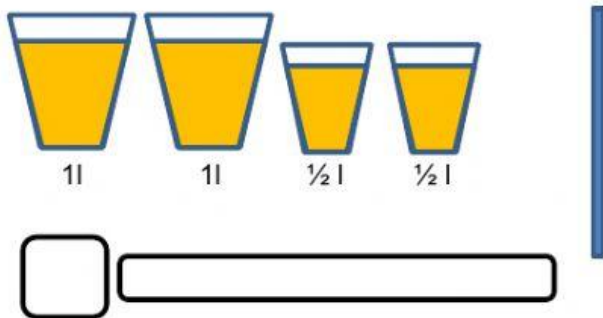
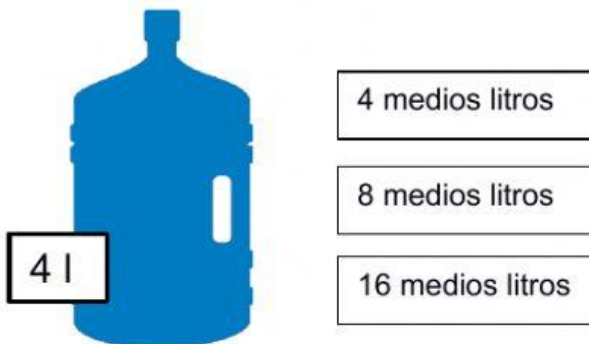


REPASO TEMA 11 MATEMÁTICAS

1)Escribe cuántos litros hay en cada caso.



2)Marca ¿Cuántos medios litros de agua caben en 1 garrafa de 4 litros?



Marca ¿Cuántos cuartos litros de caben en una botella de 5 litros?



3)Arrastra de menor a mayor las siguientes capacidades.

4 litros y medio

2 litros y cuarto

3 litros

1

2

3

REPASO TEMA 11 MATEMÁTICAS

4)Calcula.

$$\begin{array}{r} 734 \\ - 396 \\ \hline \end{array}$$

$$\begin{array}{r} 486 \\ + 462 \\ \hline \end{array}$$

$$\begin{array}{r} 614 \\ - 297 \\ \hline \end{array}$$

5)Escribe los resultados.

$7 \times 3 = \square$

$7 \times 2 = \square$

$7 \times 4 = \square$

$7 \times 8 = \square$

$7 \times 5 = \square$

$7 \times 7 = \square$

$7 \times 6 = \square$

$7 \times 9 = \square$

$7 \times 1 = \square$

6)Escribe los números que faltan.

$6 \times 7 = \square$

$9 \times \square = 72$

$\square \times 4 = 16$

$7 \times \square = 21$

$5 \times \square = 25$

$7 \times 4 = \square$

7)Calcula.

$$\begin{array}{r} 42 \\ \times 4 \\ \hline \end{array}$$

$$\begin{array}{r} 81 \\ \times 5 \\ \hline \end{array}$$

$$\begin{array}{r} 70 \\ \times 3 \\ \hline \end{array}$$

$$\begin{array}{r} 93 \\ \times 2 \\ \hline \end{array}$$