

















# Valor de las figuras

Observa bien la imagen.

Detrás de los rombos se esconden los números.  
La suma de los números en cada columna y en cada  
fila está dada al lado de las filas y columnas  
correspondientes.

A los colores diferentes corresponden diferentes  
números.

**Encuentra el valor del color de cada rombo**

	+		+		+		= 74
+		+		+		+	
	+		+		+		= 79
+		+		+		+	
	+		+		+		= 72
+		+		+		+	
	+		+		+		= 62
=		=		=		=	
60		100		53		74	

