






Nombre: _____

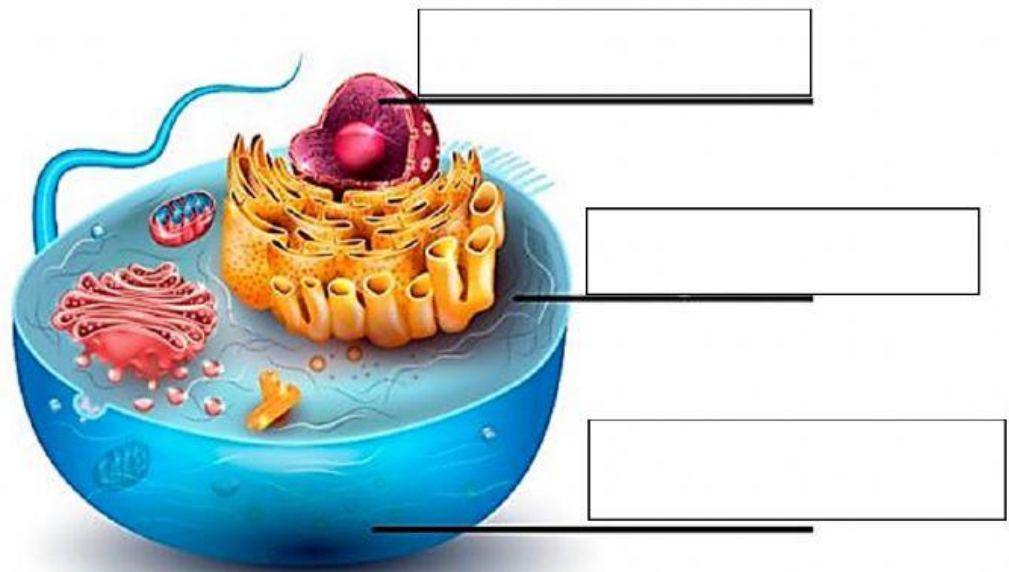
Fecha: _____

I. Instrucciones: Parea la palabra con la imagen correspondiente.

célula	núcleo	citoplasma	membrana	microscopio
--------	--------	------------	----------	-------------

II. Escribe el nombre que falta.



III. Ordena el esquema de organización multicelular.

1	2	3	4	5

organismo o individuo	célula	órganos	sistemas o aparatos	tejido
-----------------------	--------	---------	---------------------	--------

IV. Escoge

1. Estructura compuesta por **uno a más tejidos**:
 - a. célula
 - b. órganos
 - c. sistemas

2. **Unidad básica** de estructura y formación de los seres vivos.
(microscópica)
 - a. órganos
 - b. sistemas
 - c. células

3. **Ser vivo individual** que puede estar compuesto por uno o más sistemas orgánicos.
 - a. organismo
 - b. célula
 - c. tejidos

4. **Grupo de órganos** que trabajan juntos para cumplir cierta función.
- a. sistemas
 - b. célula
 - c. órganos
5. **Grupo de células del mismo tipo.**
- a. célula
 - b. órganos
 - c. tejidos