



PEMERINTAH KOTA BOGOR
DINAS PENDIDIKAN
SEKOLAH DASAR NEGERI CIBULUH 4
KECAMATAN BOGOR UTARA

Jl. Ciburial RT 04/04 Kel. Ciparigi Bogor 16157 Telp. (0251) 8664194
NPSN 20220082 NSS 10 1 02 61 01 032

PENILAIAN TENGAH SEMESTER GANJIL
TAHUN PELAJARAN 2021/2022

MUATAN PELAJARAN : SBDP
KELAS : VI (ENAM)

HARI / TANGGAL: KAMIS, 23 SEPTEMBER 2021
WAKTU: JAM KE - 2

No. Absen		Nama Siswa:	
-----------	--	-------------	--

I. Ketiklah huruf pilihan jawaban (a, b, c, atau d) yang menurutmu benar pada kotak yang telah disediakan!

1. Pemaparan ekspresi, gagasan, ide dalam bentuk karya seni rupa tiga dimensional, merupakan pengertian dari

- a. Anyaman
- b. Lukisan
- c. Tarian
- d. Patung

2. Gambar berikut ini yang merupakan karya seni rupa tiga dimensi adalah...

a.



c.



b.



d.



3. Patung dari bahan tanah liat dibuat dengan tehnik





- a. pahat
- b. cetak tekan
- c. cor
- d. merakit

4. Perhatikan gambar berikut!



Berdasarkan fungsinya, patung tersebut memiliki fungsi sebagai patung....

- a. kerajinan
- b. dekorasi
- c. religi
- d. monumen

5. Alat berikut digunakan untuk membuat patung dari bahan kayu adalah
 - a. pahat
 - b. pisau
 - c. gerinda
 - d. kompor pengecor
6. Patung yang dibuat dengan tujuan untuk memperingati jasa seseorang, kelompok atau peristiwa bersejarah disebut patung
 - a. Religi
 - b. Dekorasi
 - c. Monumen
 - d. Arsitektur
7. Salwa membuat patung menggunakan tanah liat yang terlalu lembek. Berikut ini hal yang akan dihadapi Salwa adalah
 - a. Patung mudah diukir
 - b. Mudah dibentuk dan ditata
 - c. Patung mudah diwarnai
 - d. Hasil kerajinan akan sulit diangkat dari cetakan
8. Patung yang dibuat untuk mempercantik atau memperindah ruangan, baik di dalam ruangan (interior) maupun di luar ruangan (eksterior) merupakan fungsi....
 - a. Patung arsitektur
 - b. Patung religi
 - c. Patung dekorasi
 - d. Patung monumen
9. Gambar yang termasuk ke dalam patung monumen adalah ...
 - a. 
 - b. 
 - c. 
 - d. 

10. Perhatikan gambar tokoh berikut!



Tokoh pada gambar tersebut adalah pematung yang berasal dari Sibolga, Sumatra Utara. Beberapa karyanya antara lain adalah patung Monumen Semangat 66, The Crisis dan Gate of Harmony. Tokoh seni patung Nusantara ini bernama

- a. Edi Sunarso
- b. Dolorosa Sinaga
- c. Gregorius Sidharta Soegijo
- d. harmoni

11. Tari merupakan gerak tubuh berirama, dilakukan diwaktu tertentu dan di tempat tertentu untuk menyampaikan suatu perasaan dan pesan kepada seseorang maupun kelompok. Gerak tari yang dibentuk dari gerak tari yang sudah ada dan dipadukan dengan gerak tari yang baru disebut dengan gerak tari...

- a. Gerak tari Klasik
- b. Gerak tari kerakyatan
- c. Gerak tari kreasi baru
- d. Gerak tari Nusantara

12. Pola denah yang harus dikuasai oleh seorang penari dan berfungsi untuk membuat posisi dalam sebuah ruang gerak disebut ...

- a. Pola gerak
- b. Pola tari
- c. Pola lantai
- d. Pola berdiri

13. Perhatikan gambar berikut!



Pola lantai yang ditunjukkan oleh penari pada gambar tersebut adalah pola lantai garis...

- a. vertikal
- b. horizontal
- c. diagonal
- d. zig zag

14. Berikut ini yang merupakan tari kreasi daerah adalah

- a. Tari Saudati
- b. Tari Yapong
- c. Tari Merak
- d. Tari Colek

15. Sebuah tarian yang membutuhkan 4 orang penari termasuk bentuk tari

- a. Berpasang-pasangan
- b. tunggal
- c. berpasangan
- d. kelompok

16. Perhatikan tabel berikut!

NO	Nama Tarian	Asal Daerah
1	Maengket	Sulawesi Utara
2	Kuda Lumping	Jawa Barat
3	Zapin	Aceh
4	Caci	Nusa Tenggara Barat

Berdasarkan tabel tersebut nama tarian yang sesuai dengan asal daerah ditunjukkan pada nomor ...

- a. 1
- b. 2
- c. 3
- d. 4

17. Pola lantai yang sering digunakan pada tari rakyat dan tari tradisional adalah pola lantai...

- a. Diagonal
- b. Lengkung
- c. Lengkung
- d. Vertikal

18. Perhatikan gambar berikut!



Tari Tradisional seperti pada tersebut berasal dari daerah Bali. Tari ini bernama...

- a. Tari Pendet
- b. Tari Lawung
- c. Tari Sanghyang
- d. Tari Tor-Tor

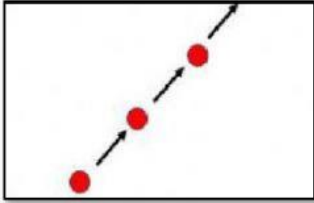
19. Perhatikan gambar berikut !



Tari Tradisional pada gambar di samping merupakan tarian klasik Jawa yang di kembangkan di keraton-keraton. Tarian ini bernama...

- a. Tari Serimpi Sangupati
- b. Tari Gambyong
- c. Tari Gambir Anom
- d. Tari Bedhaya Ketawang

20. Perhatikan gambar berikut ini!



Pola lantai yang ditunjukkan pada gambar di samping adalah bentuk pola lantai ...

- a. Vertikal
- b. Diagonal
- c. Horizontal
- d. Lingkaran

II. Isilah titik-titik di bawah ini dengan jawaban yang tepat!

21. Perhatikan gambar berikut!



Patung pada gambar di samping adalah patung Jalesveva Jayamahe yang terletak di ...

22. Perhatikan gambar berikut!



Tokoh pada gambar di samping adalah I Nyoman Nuarta. Salah satu karya patungnya yang terkenal adalah patung ...

23. Perhatikan gambar berikut!



Patung pada gambar di samping adalah patung yang terletak di kawasan Bandara Ngurah Rai Bali. Nama patung ini adalah...

24. Agar patung yang dibuat lebih menarik dan lebih indah, biasanya pematung akan memberi warna untuk karya patungnya. Teknik mewarnai patung dengan sapuan warna tipis disebut teknik...

25. Teknik pembuatan patung yang dilakukan dengan cara menempel dan mengelas sesuai dengan bahannya sehingga terbentuk patung utuh disebut teknik ...

26. Pola garis lurus dan garis lengkung pada seni tari disebut dengan pola ...

27. Perhatikan gambar berikut!



Tarian pada gambar di samping adalah tari Gantun. Tari ini merupakan tari adat yang dilakukan pada saat upacara pesta tanam padi. Tari ini memiliki bentuk pola lantai ...

28. Perhatikan gambar berikut!



Tari pada gambar di samping adalah tari Lawung yang berasal dari Yogyakarta. Tarian ini merupakan tarian karya Sultan Hamengkubuwono I. Berdasarkan jumlah penarinya, Tari Lawung ini termasuk kedalam jenis tari...

29. Perhatikan gambar berikut!



Tarian di samping adalah tarian yang berasal dari daerah provinsi....

30. Rojab, Evan, dan Khoerudin sedang berlatih menari tarian khas daerah. Saat menari mereka membentuk deretan berbaris lurus dari depan ke belakang. Pola lantai yang dipakai dalam tarian tersebut ialah

III. Jawablah pertanyaan di bawah ini dengan penjelasan yang tepat!

31. Agar patung yang dibuat lebih menarik dan lebih indah, biasanya pematung akan memberi warna untuk karya patungnya. Tuliskan langkah-langkah untuk melakukan pewarnaan patung!
Jawab:

32. Tuliskanlah nama patung nusantara dan lokasi dari patung nusantara yang ada pada tabel berikut!

No	Patung Nusantara	Nama Patung Nusantara	Lokasi Patung Nusantara
1			
2			
3			
4			

33. Sebagai warga negara Indonesia pasti tahu betul keanekaragaman seni budaya apa saja yang bangsa kita miliki. Salah satu aspek keanekaragaman seni budaya yang Indonesia miliki adalah seni tari. Terdapat sekitar 400-an jumlah tari yang ada di Indonesia, 85% dari angka 400 itu adalah jumlah dari macam-macam tari tradisional. Berarti terdapat sekitar 320 jenis tari tradisional yang ada di Indonesia.

Tuliskan 3 nama tari nusantara beserta daerah asalnya ke dalam tabel berikut!

NO	Nama Tarian	Daerah Asal
1		
2		
3		

34. Identifikasilah gambar berikut!



Tuliskan hasil identifikasimu ke dalam tabel berikut!

No	Nama Tarian	Daerah Asal	Bentuk Pola Lantai	Dilakukan Secara
1				

35. Perhatikan gambar berikut!



Tari Saman



Tari Indang

Tuliskan perbedaan dan persamaan dari Tari Saman dan Tari Indang!

Persamaan	Perbedaan