

Penilaian Tengah Semester II

Kelas/Semester :6/1
Tema :2

Berilah tanda silang pada huruf a, b, c, atau d di depan jawaban yang benar!

Perhatikan teks berikut untuk menjawab soal nomor 1-3!

Menjaga persatuan dan kesatuan bangsa merupakan kewajiban seluruh rakyat Indonesia karena negara kita terdiri atas berbagai suku, agama, dan ras. Persatuan dan kesatuan merupakan hal yang sangat penting, baik dalam rangka merebut, mempertahankan, maupun mengisi kemerdekaan. 'Bersatu Kita Teguh' mengandung makna menyatunya berbagai unsur dan perbedaan yang ada menjadi suatu kesatuan yang utuh dan serasi sehingga muncul suatu kekuatan. Bangsa Indonesia telah membuktikan bahwa dengan persatuan dan kesatuan, kita mampu menghadapi penjajah dan akhirnya meraih kemerdekaan.

1. Bangsa Indonesia terdiri atas berbagai . . .
a. Suku, agama, ras b. Suku dan agama c. Suku dan ras d. ras dan agama
2. Menyatunya berbagai unsur dan perbedaan yang ada menjadi suatu kesatuan yang utuh dan serasi sehingga muncul suatu kekuatan merupakan makna dari . . .
a. Bersatu kita teguh b. Pancasila c. Tut wuri handayani d. Dasa dharma
3. Bangsa Indonesia mampu menghadapi penjajah dan akhirnya meraih kemerdekaan karena menerapkan . . .
a. Kedaerahaan b. Persatuan dan kesatuan c. Kekompakan dengan kelompok d. Kesederhanaan
4. Melaksanakan piket kelas bersama teman-teman merupakan contoh penerapan sila ke . . .
a. Satu b. Dua c. Tiga d. empat
5. Contoh penerapan sila ketiga di lingkungan masyarakat yaitu . . .
a. Menghargai tetangga yang sedang beribadah c. Kerja bakti membersihkan saluran air
b. Menolong orang yang terjatuh dari motor d. Musyawarah pemilihan ketua RT
6. Jika kita sedang melakukan pertandingan olahraga bersama teman, hal yang penting dilakukan untuk memenangkan pertandingan tersebut adalah . . .
a. Kerjasama b. Toleransi c. Kerukunan d. Kemandirian

Perhatikan teks berikut untuk menjawab soal nomor 7-8!





Setelah Proklamasi Kemerdekaan Indonesia 17 Agustus 1945, bangsa Indonesia ternyata masih terus berjuang mempertahankan kemerdekaan Indonesia dari gangguan bangsa asing yang datang, seperti dari Pemerintahan Belanda. Pasukan Belanda kembali datang ke tanah air. Kedatangan ini disambut dengan berbagai bentuk perlawanan oleh bangsa Indonesia. Sehingga sejak tahun 1945-1950 telah terjadi berbagai macam pertempuran di berbagai daerah antara pihak Indonesia dengan pihak Belanda yang dibantu oleh pasukan Inggris.

7. Bangsa asing yang menjadi gangguan Indonesia setelah proklamasi kemerdekaan adalah . . .
a. Laos b. Singapura c. Malaysia d. Belanda
8. Lamanya pertempuran yang terjadi di berbagai daerah setelah proklamasi kemerdekaan adalah . . .
a. 3 tahun b. 4 tahun c. 5 tahun d. 6 tahun

Perhatikan teks berikut untuk menjawab soal nomor 9-12!

Tanggal 27-30 Oktober 1945, terjadi kontak senjata antara para pemuda Indonesia dengan pasukan Inggris. Dalam pertempuran ini, pasukan Inggris dapat dipukul mundur. Bahkan, puncak dari pertempuran tersebut adalah terbunuhnya pemimpin pasukan Inggris, Brigadir Jendral Mallaby. Pada tanggal 9 November 1945, Inggris mengeluarkan ultimatum yang berisi "semua pimpinan dan orang Indonesia yang bersenjata harus melapor dan meletakkan senjatanya di tempat yang ditentukan dan menyerahkan diri dengan mengangkat tangan". Namun, ultimatum tersebut ditolak oleh pihak Indonesia. Pada tanggal 10 November 1945 terjadi pertempuran yang sangat dahsyat. Pasukan Inggris menggempur Surabaya dari darat, laut, dan udara. Peristiwa 10 November ini diperingati sebagai Hari Pahlawan.

9. Kontak senjata antara pemuda Indonesia dengan pasukan Inggris terjadi pada tanggal . . .
a. 27-30 Oktober 1945 b. 10-11 November 1945 c. 28-29 Oktober 1945 d. 27-28 November 1945
10. Pemimpin pasukan Inggris yang terbunuh dalam pertempuran adalah . . .
a. Brigadir Jendral Mallaby b. Jendral H.J. van Mook c. Herman van Roijen d. B.R. Motik
11. Pertempuran terdahsyat terjadi pada tanggal . . .
a. 7 November 1945 b. 8 November 1945 c. 9 November 1945 d. 10 November 1945
12. Peristiwa 10 November diperingati sebagai . . .
a. Hari Kemerdekaan b. Hari Pahlawan c. Hari Sumpah Pemuda d. Hari Kesaktian Pancasila
13. Di bawah ini yang merupakan ciri kalimat efektif adalah . . .
a. Struktur bahasa tidak resmi c. Menggunakan struktur bahasa yang tepat
b. Ejaan sesuai dengan bahasa pergaulan d. Menggunakan serapan bahasa asing

14.  Tanaman di samping memiliki daun yang menyerupai duri. Hal tersebut disebabkan lingkungan tempat hidupnya
a. Lembab b. Kering c. basah d. sejuk
15. Ciri khusus pada kaki bebek yang membantunya untuk mencari makan di air adalah
a. Kaki bercakar b. Kaki pendek c. Kaki berselaput d. Kaki panjang
16. Contoh hewan yang mengubah warna tubuh (mimikri) menyesuaikan dengan lingkungan yang ditempatinya adalah . .
a. Bebek b. Ular c. Kucing d. bunglon
17. Mengeluarkan tinta hitam saat dikejar musuh, merupakan ciri khusus hewan
a. Cumi b. Kadal c. Walang sangit d. kelelawar
18. Proklamasi kemerdekaan Indonesia dilakukan tanggal
a. 17 Agustus 1945 b. 18 Agustus 1945 c. 19 Agustus 1945 d. 20 Agustus 1945
19. Tokoh proklamator Indonesia adalah
a. M.Yamin dan Subagio b. Soekarno dan M.Hatta c. Soeharto dan M.Yamin d. Soekarno dan Soeharto
20. Perhatikan gambar di bawah ini!
 Perundingan inernasional yang terdapat pada gambar di samping adalah
a. Perjanjangan Linggarjati c. Konferensi Meja Bundar (KMB)
b. Perjanjian Renville d. Perjanjian Roem-Roijen
21. Perjanjian antara Indonesia dan Belanda yang ditandatangani pada tanggal 17 Januari 1948 di atas kapal perang Amerika Serikat (USS Renville) yaitu
a. Perjanjian Renville b. Deklarasi Bangkok c. Konferensi Meja Bundar d. Perjanjian Linggarjati
22. Tari daerah yang menerapkan prinsip persatuan contohnya adalah
a. Tari Jaipong b. Tari Merak c. Tari Kecak d. Tari Topeng
23.  Tarian di samping menggunakan pola lantai
a. Vertikal b. Horizontal c. diagonal d. melengkung/melingkar
24. Contoh tari daerah yang berasal dari Bali yaitu tari
a. Tari Saman b. Tari Kecak c. Tari Seudati d. Tari Plring
25.  Pola Tari Indang di samping adalah
a. Lurus b. Lengkung c. Melingkar c. zigzag