

Nombre \_\_\_\_\_

Maestro \_\_\_\_\_







## Complementos a 100

El complemento a 100 de 20 es 80, porque  $20+80=100$

El complemento a 100 de 75 es 25, porque  $75+25=100$

Escribe el número que completa la suma

	
	$90+ \underline{\hspace{1cm}} = 100$
	$80+ \underline{\hspace{1cm}} = 100$
	$70+ \underline{\hspace{1cm}} = 100$
	$60+ \underline{\hspace{1cm}} = 100$

Escribe el resultado de las sumas

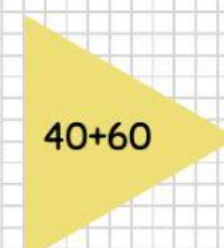
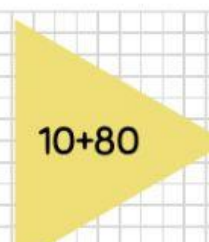
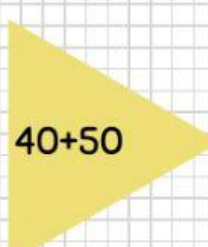
$60+40= \underline{\hspace{1cm}}$

$70+30= \underline{\hspace{1cm}}$

$80+20= \underline{\hspace{1cm}}$

$90+10= \underline{\hspace{1cm}}$

Elige la imagen que al sumar da 100

La suma da 100

