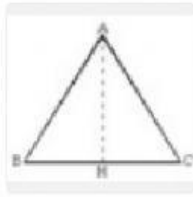



PRACTICA DE GEOMETRÍA - AREAS DE POLÍGONOS



Q. Cual es el área de esta figura? Su base es de 8 cm y su altura es de 10 cm

— opciones de respuesta —

- 40 cm²
- 45 cm²
- 50 cm²
- 70 cm²



Q. Cual es el área de esta figura? Su diagonal mayor es de 11 cm y su diagonal menor es de 8 cm

— opciones de respuesta —


- 44 cm²
- 54 cm²
- 64 cm²
- 34 cm²



Q. Cual es el área de esta figura? Su diagonal mayor es de 25 cm y su diagonal menor es de 20 cm

— opciones de respuesta —

- 250 cm²
- 254 cm²
- 264 cm²
- 260 cm²



Q. Cual es el área de esta figura? Su base mayor es de 10 cm, su base menor es de 5 cm y su altura es de 8 cm.

— opciones de respuesta —

- 60 cm²
- 34 cm²
- 44 cm²
- 48 cm²

Q. Área de un cuadrado cuyo lado mide 6 cm

— opciones de respuesta —

12 cm²

24 cm²

36 cm²

48 cm²

Q. Área de un rectángulo cuyos lados miden 7 cm y 6 cm

— opciones de respuesta —

26 cm²

21 cm²

42 cm²

13 cm²

Si el perímetro de un cuadrado es 20cm, halla su área.

Rspta: Su área es de _____ cm².

Halla el área de un rectángulo cuya base es 12 cm y su altura es 5cm.

Rspta: S u área es de _____ cm²

