

EXAMEN PRIMER QUIMESTRE

DOCENTE:	BORBOR ARMENDÁRIZ MELANY NOEMÍ	NOMBRE DEL ESTUDIANTE:	
GRADO/CURSO:	GRADO 4	CALIFICACIÓN:	
ASIGNATURA:	COMPUTACIÓN	FECHA:	

Instrucciones

- 1.- El tiempo estimado para el desarrollo de la evaluación es de 35 minutos.
- 2.- La evaluación es individual y es para valorar sus conocimientos, por lo tanto, se prohíbe realizar consultas en internet o en el material de clases, durante el tiempo de la evaluación.
- 3.- Analice cada tema antes de contestar.

ÍTEM DE IDENTIFICACIÓN**4 PUNTOS****1. SELECCIONA LA IMAGEN CORRECTA**

a) ¿Qué ícono pertenece a Microsoft Excel?



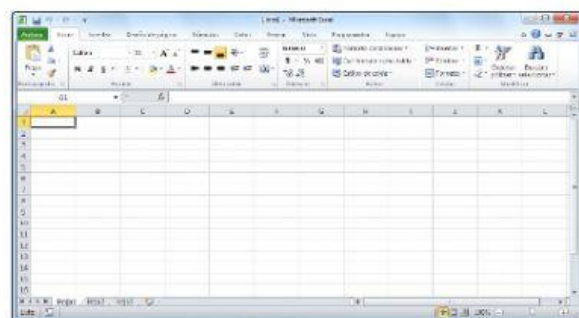
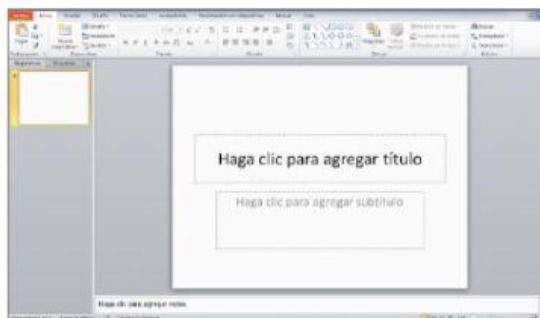
b) ¿Qué ícono pertenece a Microsoft Word?



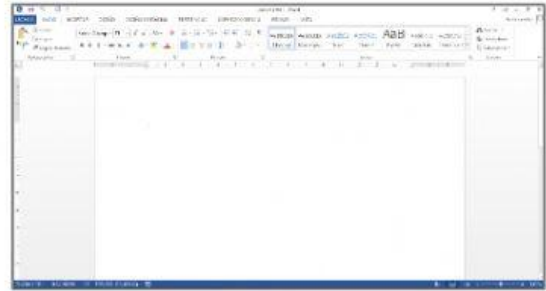
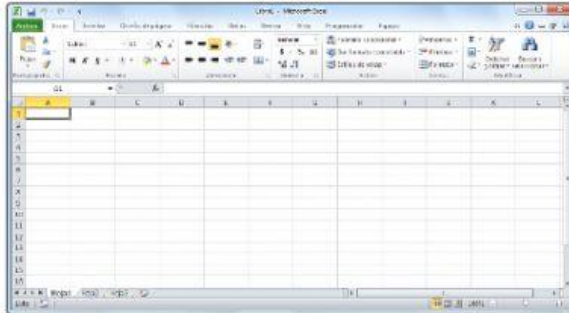
c) ¿Qué ícono pertenece a Microsoft PowerPoint?



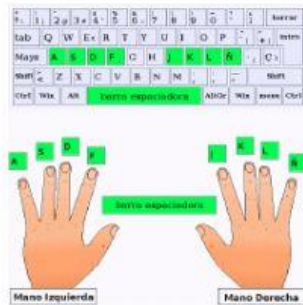
d) ¿Cómo es la interfaz de Microsoft PowerPoint?



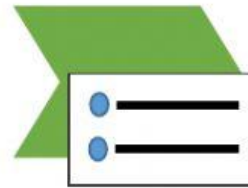
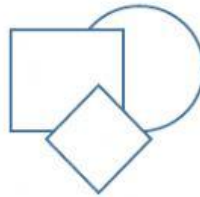
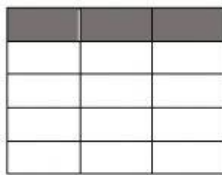
e) ¿Cómo es la interfaz de Microsoft Word?



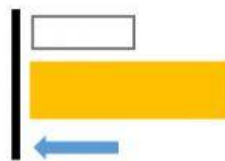
f) ¿Qué es mecanografía?






g) ¿Qué botón permite insertar tablas?






h) ¿Qué ícono pertenece a una carpeta?






i) ¿Qué botón pertenece a Vista Normal?



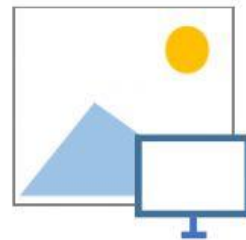
j) ¿Qué botón pertenece a Vista Clasificador de Diapositivas?



k) ¿Qué botón pertenece a Vista Presentación?



m) ¿Qué botón permite insertar imágenes de internet?



ÍTEM DE COMPLETAMIENTO

1,5 PUNTOS

2. LEE LOS ENUNCIADOS Y ESCOGE LA OPCIÓN CORRECTA

a) Excel permite manipular _____ y _____.

Pistas: números - fotos - archivos – carpetas - datos

b) PowerPoint es un _____ que sirve para estructurar presentaciones a través de _____.

Pistas: programa – juego – hojas de cálculo – hojas en blanco - diapositivas

c) El explorador de Windows permite manipular _____ y _____.

Pistas: números - archivos – carpetas - datos

ÍTEM DE SELECCIÓN

1,5 PUNTOS

3. LEE LOS ENUNCIADOS Y ESCOGE LA OPCIÓN CORRECTA

A) ¿Con qué signo empiezan todas las fórmulas de Excel?

= (igual)

- (menos)

+ (más)

B) Microsoft Excel es reconocido por su poderosa...

Hoja de dibujo

Hoja de borrador

Hoja de cálculo

C) Los operadores matemáticos son...

A, b, c, d, e

+ - / *

← ↑ → ↓

ÍTEM DE RELACIÓN DE CORRESPONDENCIA

2 PUNTOS

4. ESCRIBE UNA LETRA EN LOS ESPACIOS VACÍOS PARA RELACIONAR CADA DEFINICIÓN CON SU NOMBRE.

A Conjunto de celdas en sentido vertical

Columnas

B Conjunto de celdas en sentido horizontal

Filas

C Conjunto de celdas seleccionadas de una hoja de cálculo

Celdas

D Conjunto de celdas en sentido vertical

Rango

ÍTEM DE EJECUCIÓN DE APRENDIZAJE

1 PUNTOS

7. LEE EL EJERCICIO Y ESCRIBE LA FÓRMULA CORRECTA PARA RESOLVER LO.

	A	B	C	D	E	F
1	Doña Gabriela llamó a sus tres nietos para que la ayudaran recogiendo las manzanas de su árbol. Lee los siguientes datos y responde ¿Cuántas manzanas recolectaron en total?					
2						
3		Kheyns		30 manzanas		
4		Dereck		25 manzanas		
5		Kenny		21 manzanas		
6		TOTAL:				
7						
8						
9						

Respuesta:

8. ¿QUÉ FÓRMULA UTILIZARÍAS PARA RESOLVER ESTE EJERCICIO? SUMA

	A	B	C	D	E
1	10			15	
2					
3			60		
4		52			
5					
6					

Respuesta:

DOCENTE Prof. Borbor Armendáriz Melany	COMISIÓN PEDAGÓGICA Ing. Yuliana Clemente P.	DIRECTOR Ing. Gabriel Medina D.