


Bài 5:

**Ôn tập phép cộng, phép trừ
(không nhớ) trong phạm vi 100
(Tiết 1 + 2)**



1 Viết số thích hợp vào các ô trống:

a)

$$60 + 40 = ?$$

$$6 \text{ chục} + 4 \text{ chục} = 10 \text{ chục}$$

$$60 + 40 = 100$$

$$30 + 50 = ?$$

$$\text{chục} + \text{chục} = \text{chục}$$

$$+ \quad =$$

$$70 + 20 = ?$$

$$\text{chục} + \text{chục} = \text{chục}$$

$$+ \quad =$$

$$40 + 50 = ?$$

$$\text{chục} + \text{chục} = \text{chục}$$

$$+ \quad =$$

1 Viết số thích hợp vào các ô trống:

b)

$$100 - 20 = ?$$

$$10 \text{ chục} - 2 \text{ chục} = 8 \text{ chục}$$

$$100 - 20 = 80$$

$$100 - 50 = ?$$

$$\text{chục} - \text{chục} = \text{chục}$$

$$- \quad =$$

$$100 - 40 = ?$$

$$\text{chục} - \text{chục} = \text{chục}$$

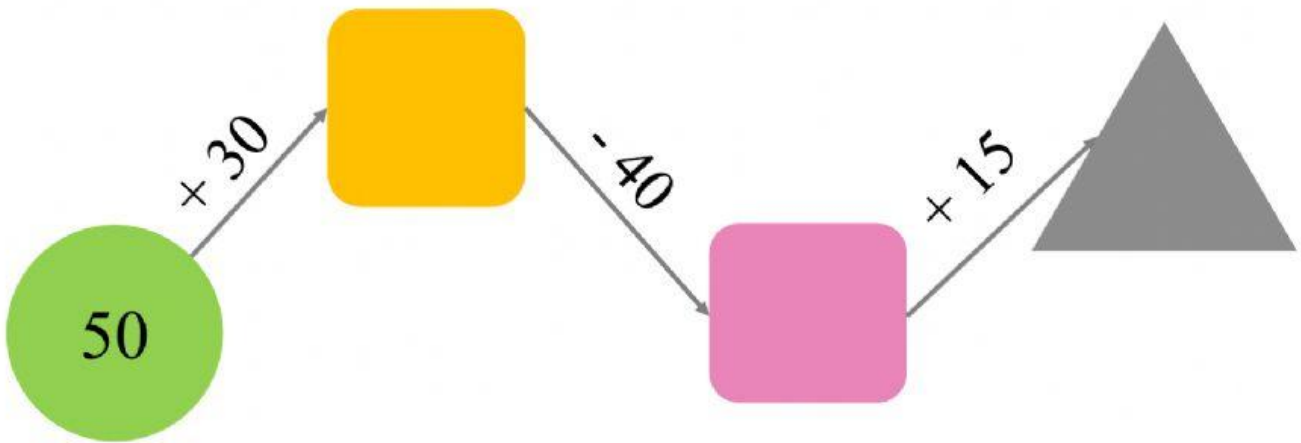
$$- \quad =$$

$$100 - 60 = ?$$

$$\text{chục} - \text{chục} = \text{chục}$$

$$- \quad =$$

2 Điền số thích hợp vào ô trống



- 3 Trên thuyền có 15 hành khách, đến bến có 5 hành khách lên thuyền. Hỏi lúc đó trên thuyền có tất cả bao nhiêu hành khách?



Bài giải

Trên thuyền có tất cả số hành khách là:

$$\square + \square = \square \text{ (hành khách)}$$

Đáp án: hành khách

4

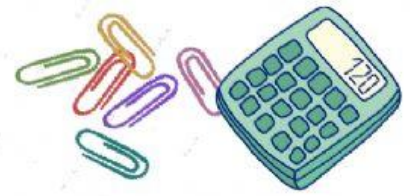
D, S?

$$\begin{array}{r} 35 \\ + 4 \\ \hline 75 \end{array} \quad \square$$

$$\begin{array}{r} 59 \\ - 6 \\ \hline 53 \end{array} \quad \square$$

$$\begin{array}{r} 87 \\ - 32 \\ \hline 55 \end{array} \quad \square$$

5 Tính và ghi kết quả vào ô trống :



$20 + 6 =$

$57 - 7 =$

$3 + 40 =$

$43 + 20 =$

$75 - 70 =$

$69 - 19 =$



6 Tìm chữ số thích hợp vào ô trống :

$$\begin{array}{r} + 36 \\ \square 2 \\ \hline 7\square \end{array}$$


$$\begin{array}{r} \square 8 \\ - 46 \\ \hline 5\square \end{array}$$

$$\begin{array}{r} + 5\square \\ \square 2 \\ \hline 87 \end{array}$$



7

Đàn trâu và bò của nhà bác Bình có 37 con, trong đó có 12 con trâu. Hỏi bác Bình có bao nhiêu con bò?



Bài giải

Bác Bình có số con bò là:

$$\square - \square = \square \text{ (con)}$$

Đáp số: con bò