
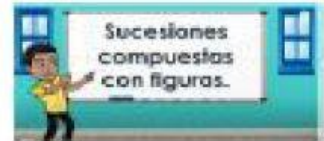


Matemáticas "Sucesiones compuestas"

Aprendizaje esperado: Resuelve problemas que implican identificar la regularidad de sucesiones compuestas.

- Observa el siguiente video y resuelve las sucesiones que se te presentan:

<https://www.youtube.com/watch?v=mQZi3eyqU>

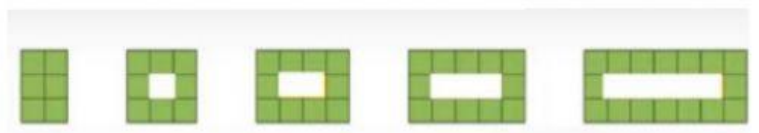


- ❖ Observa la sucesión anterior y dibuja los términos de la primer sucesión:

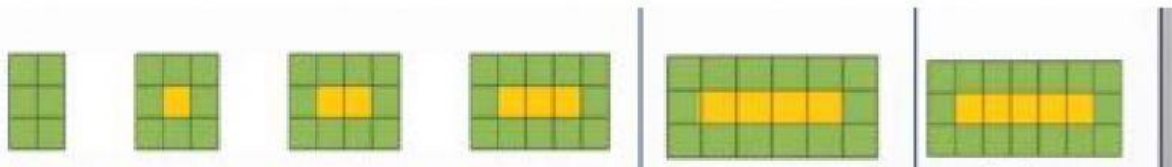
- ❖ Ahora dibuja los términos de la segunda sucesión:

- ❖ Dibuja el sexto término que seguiría en la sucesión anterior:

Elige la opción que corresponda de acuerdo al video.



De estos términos elige para el sexto término




✦ Dibuja el término que seguiría en las siguientes sucesiones:


a)




b)



c)



d) 3, 5, 8, 8, 13, 11, 18,



14

17

23

28