










MATEMÁTICAS 2º Maestra María

CEIP AVE MARÍA DEL DIEZMO



				
LEJÍA	DESENGRASANTE	LIMPIA CRISTALES	LIMPIA MUEBLES	FRIEGASUELOS
2 €	1 €	2€	1€	2€

¿Quién compra?	¿Qué compra?	¿Cuánto dinero se gasta?	Si pago con un billete de 20 euros , ¿cuánto dinero me devolverán?
Manar	 	<input type="text"/> €	Me devolverán _____ euros.
Mohamed	 	<input type="text"/> €	Me devolverán _____ euros.
Nagore	 	<input type="text"/> €	Me devolverán _____ euros.
Rayan	  	<input type="text"/> €	Me devolverán _____ euros.