

Números del 0 al 99

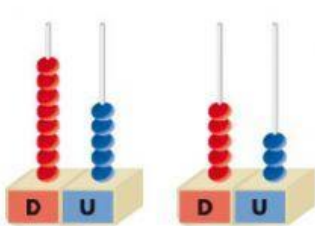
Descompón los siguientes números en unidades y decenas.

29 \Rightarrow D y U 55 \Rightarrow D y U 38 \Rightarrow D y U

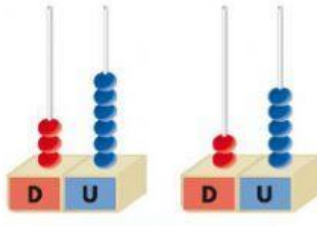
34 \Rightarrow D y U 52 \Rightarrow D y U 97 \Rightarrow D y U

Restas sin llevar

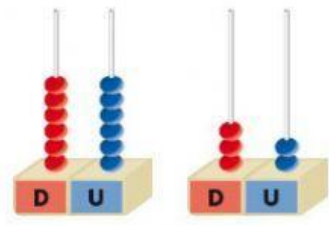
Introduce los números que aparecen en el ábaco y realiza la resta.



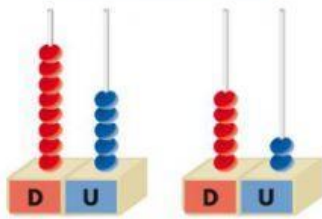
D	U



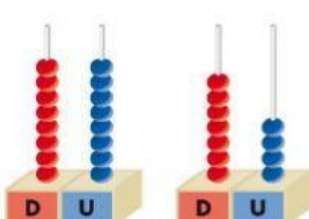
D	U



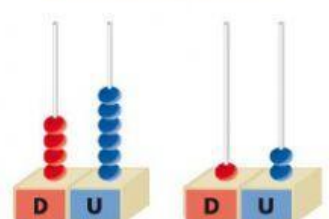
D	U



D	U



D	U



D	U