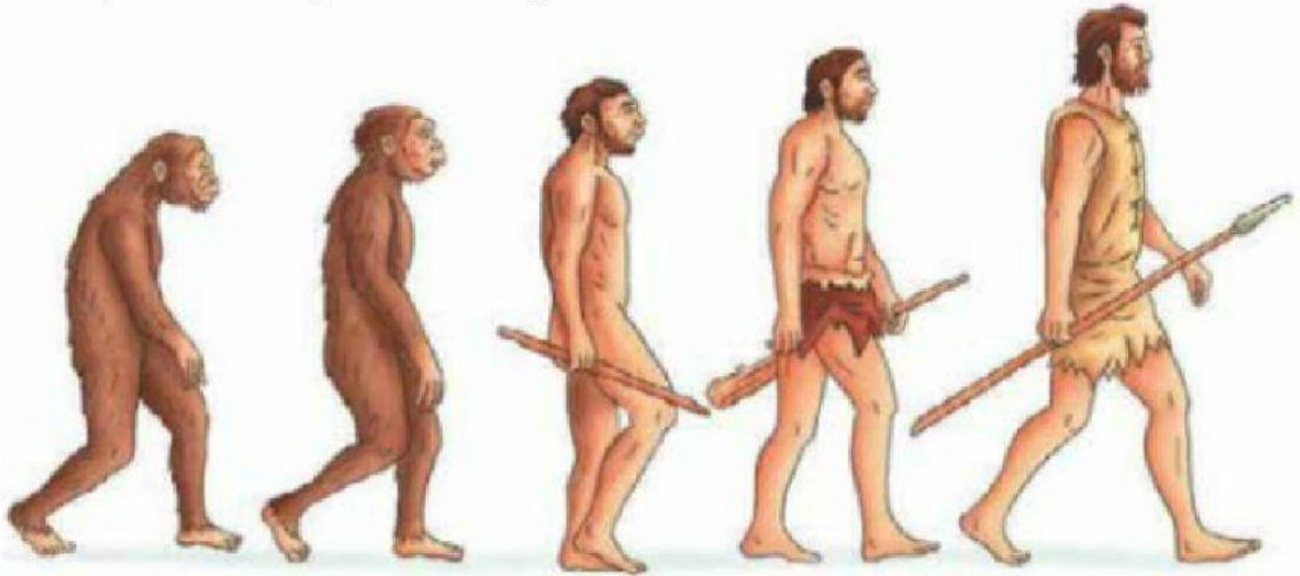


# PREHISTORIA

Nombre: \_\_\_\_\_

**Ordena las imágenes colocando el cráneo en la posición que le corresponde, según las etapas de evolución del ser humano.**



**Relaciona con líneas las consecuencias que tuvieron para los hombres de la prehistoria éstas referencias:**

**Causa**

Cambios bruscos del clima

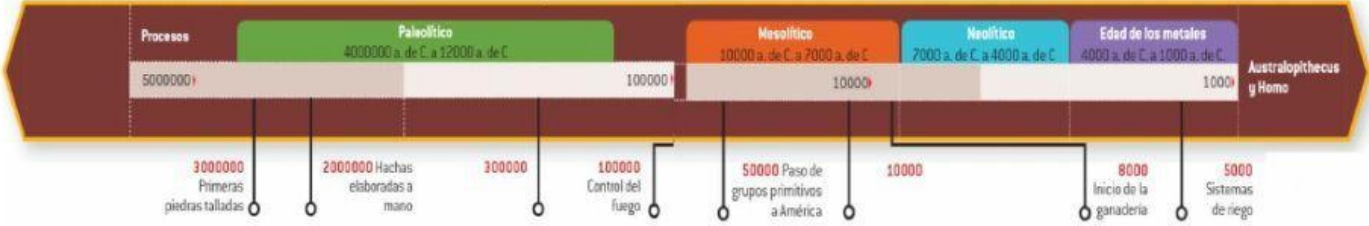
Escasez de alimento  
en los árboles

**Consecuencia**

Bajar de los árboles y buscar  
alimento en el suelo

Buscar otros lugares para vivir

Observa la línea del tiempo.



Completa la tabla, utilizando la información de la línea del tiempo, moviendo cada dato al lugar que le corresponde.

Homínido	Periodo	Continente

África y Asia

Paleolítico

Homo sapiens

África, Europa y Asia

Paleolítico

Mesolítico

Homo habilis

África

Neolítico

Homo erectus

Australopithecus

África, Europa, Asia, Oceanía y América

Paleolítico

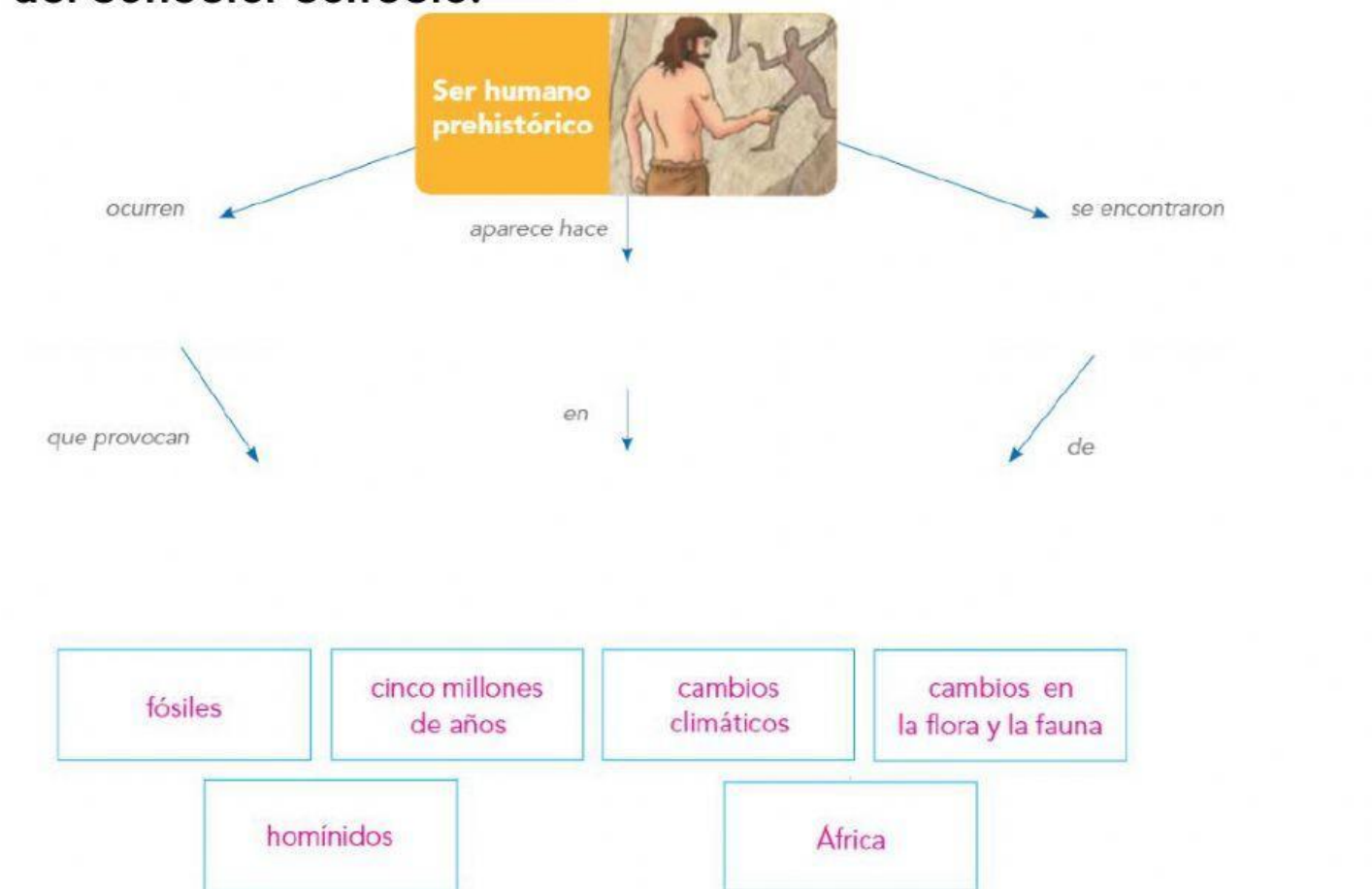
Homo sapiens sapiens

África, Europa, Asia y Oceanía

Marca la respuesta correcta a la premisa **“Los primeros homínidos eran nómadas” ¿por qué?**

- a) practicaron la agricultura y la ganadería.
- b) se desplazaban en busca de alimento.
- c) comerciaban con otros pueblos.
- d) se dedicaban al pastoreo.

**Acaba el mapa conceptual, colocando la jerarquía debajo del conector correcto.**



Selecciona la definición correcta para cada término:

Nómada: \_\_\_\_\_

Sedentario: \_\_\_\_\_



Escribe la palabra **CAUSA** o la palabra **CONSECUENCIA** en cada enunciado.

bajaron a los valles

en búsqueda de animales para cazar

recolectaron y almacenaron cereales

que luego sembraron y cosecharon

comenzó la actividad comercial

debido a los excedentes en las cosechas

Relaciona con las flechas la imagen y características con la forma de vida de los seres humanos en la prehistoria.



Pesca, recolección y caza

Pesca, agricultura y ganadería

Sedentario

Viviendas grandes de paja y madera

Pieles de animales

Nómada

Pieles de animales y tejidos

Cuevas y pequeñas chozas

