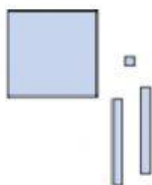




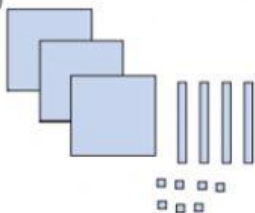
PRACTICA DE MATEMATICA

1. Escribe las cantidades con numeros y letras

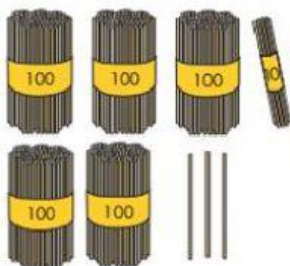
a)



b)



c)



2.- Cuenta cuántos azulejos hay . Marca la respuesta

a)



C	D	U
1	0	5

C	D	U
0	5	1

C	D	U
5	1	0

b)

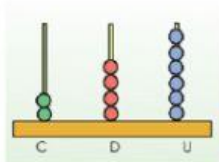


C	D	U
4	0	0

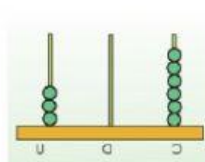
C	D	U
0	0	5

C	D	U
	5	0

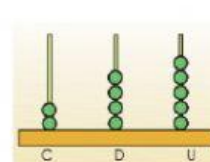
3.-Une los abacos con el numero que forma.



245



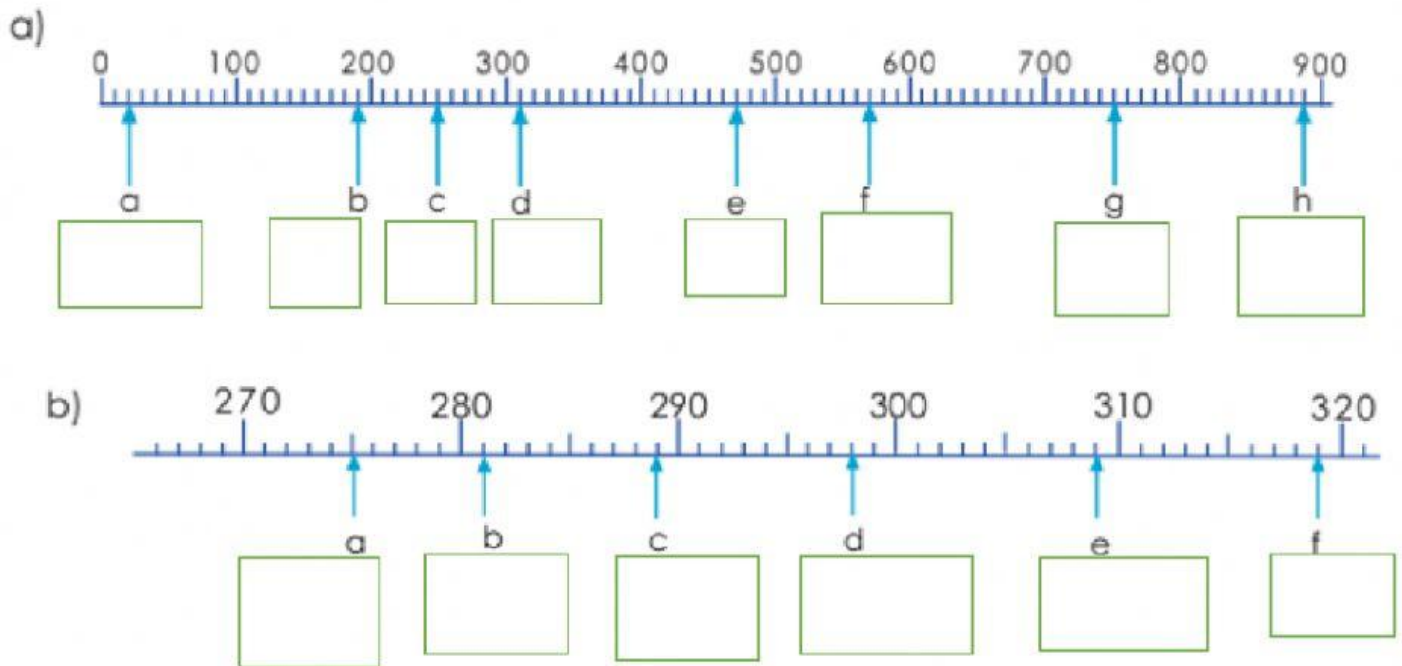
246



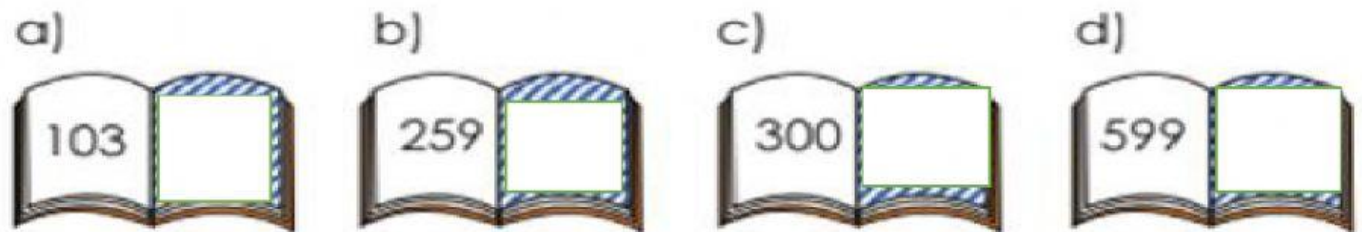
306



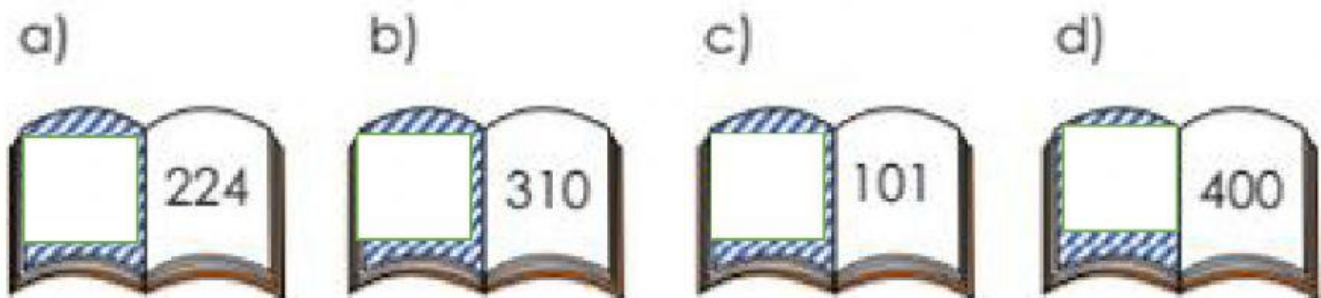
4.- Observa la recta numérica y escribe que número se esconden en cada letra. Pista cada rayita equivale a 10



5.-Escribe el número que está inmediatamente después de:



6.- Escribe el número que está inmediatamente antes de:



7.- Marca la respuesta correcta

Pedro quiere saber la edad de su querido bisabuelo. El tiene más de 80 años y menos de 82 años.

¿Cuántos años tiene el bisabuelo de Pedro?



a) 80

b) 81

c) 82