

Gimnasio Infantil Creciendo y Aprendiendo

Resolución Oficial N° 1539 del 09 de mayo de 2000 para Preescolar

Resolución oficial N° 7504 del 09 de octubre de 2001 para Primaria

Periodo: III

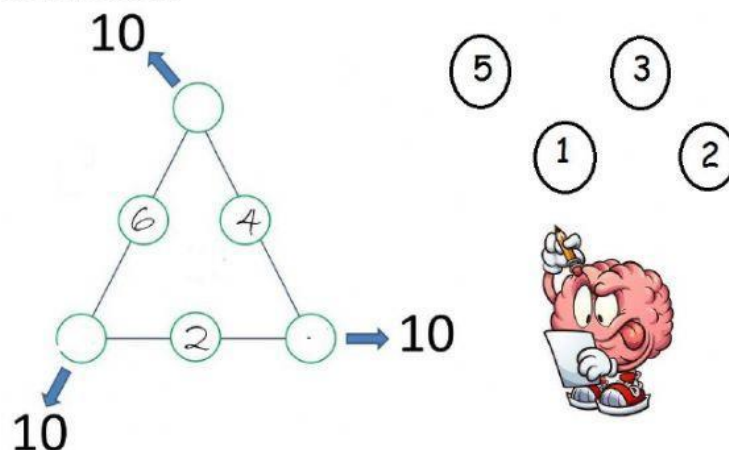
Docente: _____

Asignatura: Desarrollo

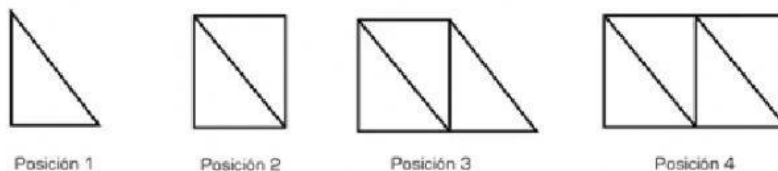
Fecha: _____

EVALUACIÓN DESARROLLO DE LA INTELIGENCIA III PERIODO

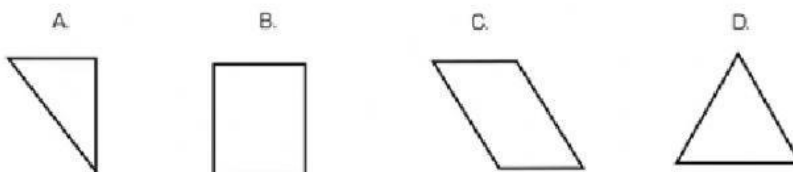
1. Usa los siguientes números para completar el triángulo, la suma de sus lados es 10



2. Observa la ubicación de las piezas en la secuencia.



¿Qué pieza se ubicó para obtener la posición 4?




3. Completa el siguiente cuadro mágico.

	9	2
3		
8	1	

Suma mágica
15

4. Manuel utilizó los lápices señalados en el rectángulo.



La fracción que representa los lápices que usó Manuel es:

A. $\frac{1}{12}$

C. $\frac{4}{12}$

B. $\frac{1}{8}$

D. $\frac{4}{8}$

5. Completa el siguiente sudoku

