
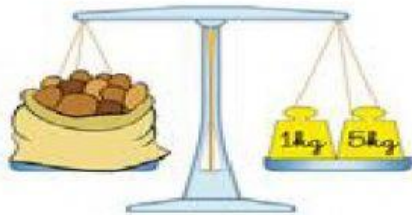
	GESTIÓN ACADÉMICA
	EJERCICIO

Estudiante:	Grado: 2 °A Y 2° B
Docente: Marisol de Brown/ Elvia Arroyo	Asignatura: Matemáticas.
Fecha:	Trimestre: III°
Valor: puntos	Puntos obtenidos:

Comparando peso en kilogramos.



a) La bolsa de papas pesa kg.

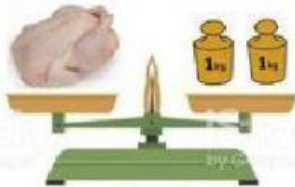
b) La sandía pesa kg

c) ¿Qué pesa más el saco de papas o la sandía?

e) Cuánto más pesada? Kg.

f) El peso total del saco de papas y la sandía es

Andrea compró tres productos en el supermercado.



a) ¿Cuál es el más pesado?

b) ¿Cuál es el más liviano?

Ordena los productos.

Comienza por el más liviano

Completa los espacios en blanco.

Utiliza las palabras del recuadro

Más que	menos que	es tan pesado como
manzanas	uvas	



Las uvas 2kg



La leche pesa 1kg



Las manzanas pesan 1kg

d) El es el más liviano

e) Las son las más pesadas.