

**EVALUACIÓN DE ESTUDIOS SOCIALES**  
**AÑO LECTIVO 2021-2022**  
**IQ**

Nombre:

Fecha:

**1. Contesta** las siguientes preguntas.

- ❖ ¿Cuál es la superficie de la Tierra?
- ❖ ¿Cómo se llaman los océanos que conoces?

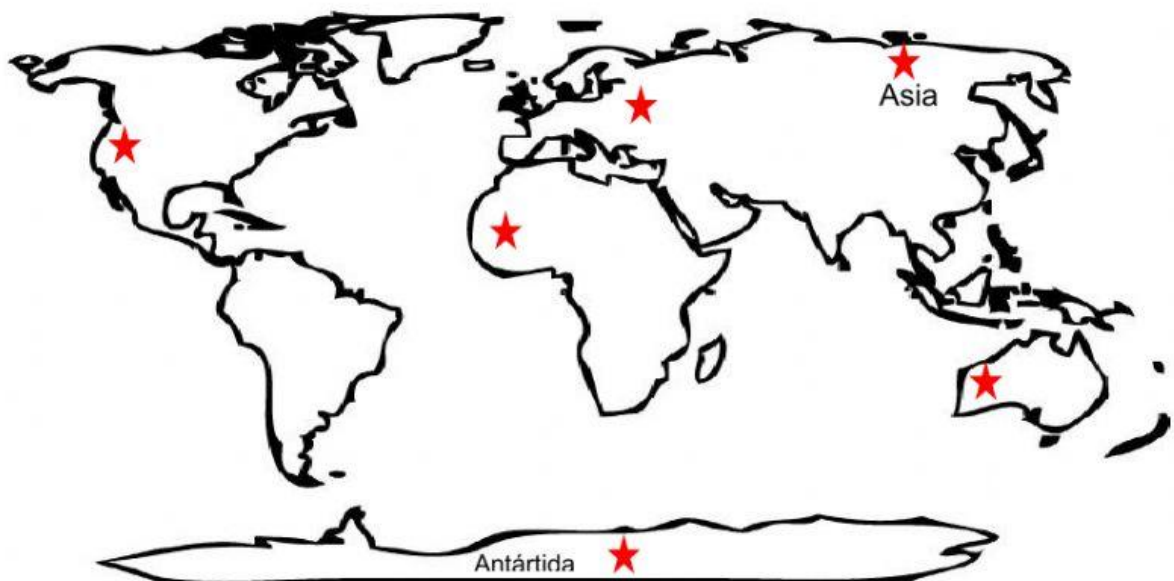
**2. Arrastra y completa** el nombre de los continentes al lugar que le corresponda.

Oceania

África

América


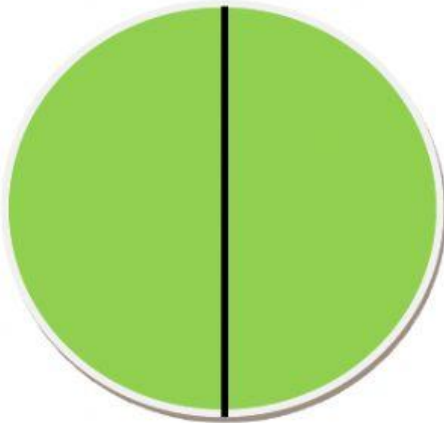
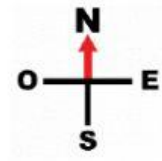
Europa



**2. Lee y contesta SI o NO según corresponda.**

- ❖ Los paralelos son líneas imaginarias que dividen a la Tierra en hemisferio norte y hemisferio sur.
- ❖ El principal meridiano de la Tierra se llama “Línea Ecuador”.
- ❖ Nosotros vivimos en el continente europeo.
- ❖ Ecuador se encuentra en América.

**4. Escoge el nombre correcto de cada hemisferio.**



5. Une estos países con la región de América a la que pertenecen.

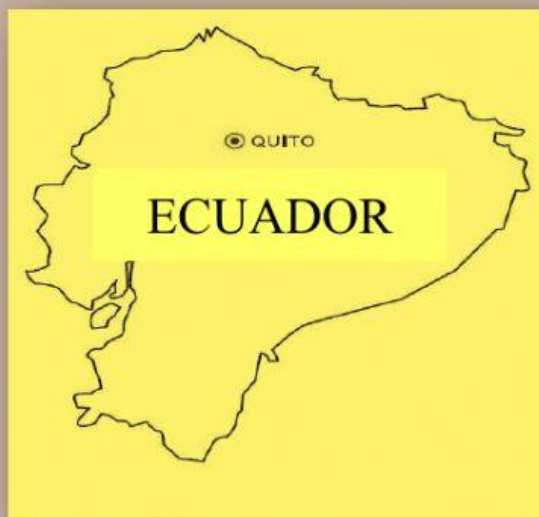
✚ Brasil, Ecuador y Chile

✚ Honduras, Nicaragua y Guatemala

✚ Estados Unidos, México y Canadá



6. Escoge los límites correctos del Ecuador.



Norte:

Sur:

Este:

Oeste: