



	<b>LICEO COOPERATIVO CAMPESTRE</b> <i>Luz, integridad y sabiduría</i>		
	Asignatura: GEOMETRÍA	Grado: SEGUNDO	Trimestre: III
	Estudiante:	Docente: YENNY CARVAJAL	Fecha:
NOTA			


1. HALLA EL ÁREA DE LAS SIGUIENTES FIGURAS SEGÚN LA UNIDAD PATRÓN




Área= \_\_\_\_\_ 



Área= \_\_\_\_\_ 



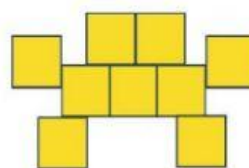
Área= \_\_\_\_\_ 



Área= \_\_\_\_\_ 

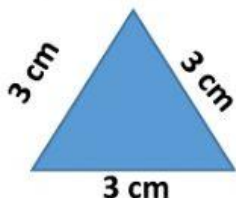


Área= \_\_\_\_\_ 

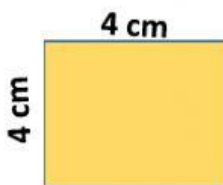


Área= \_\_\_\_\_ 

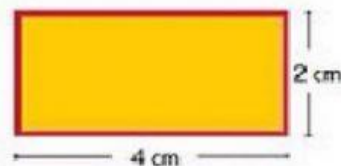
2. CALCULO EL PERÍMETRO DE CADA FIGURA



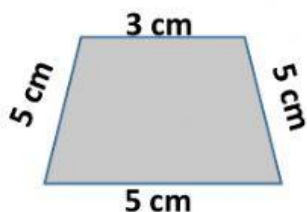
P= \_\_\_\_\_ cm



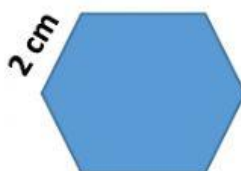
P= \_\_\_\_\_ cm



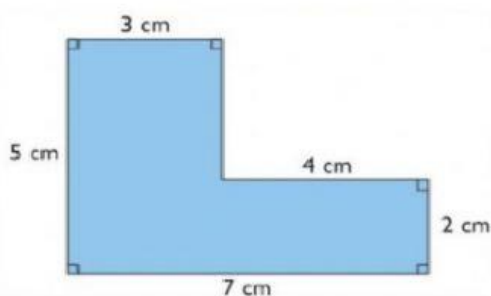
P= \_\_\_\_\_ cm



P= \_\_\_\_\_ cm





P= \_\_\_\_\_ cm



P= \_\_\_\_\_ cm

3. OBSERVO LOS VASOS Y SELECCIONA LA CAPACIDAD CORRECTA DE CADA GRUPO







32

16

24







32

16

24






20

8

24



20

8

24

4. ORDENO LOS ALIMENTOS DE MAYOR A MENOR PESO, ESCRIBIENDO LOS NÚMEROS DESDE EL 1 PARA EL MAYOR, HASTA EL 5 PARA EL MENOR

