


## SUCESIONES CRECIENTES Y DECRECIENTES

**NOMBRE:** \_\_\_\_\_

- 1.** Aplica la regla de formación y completa las sucesiones numéricas:

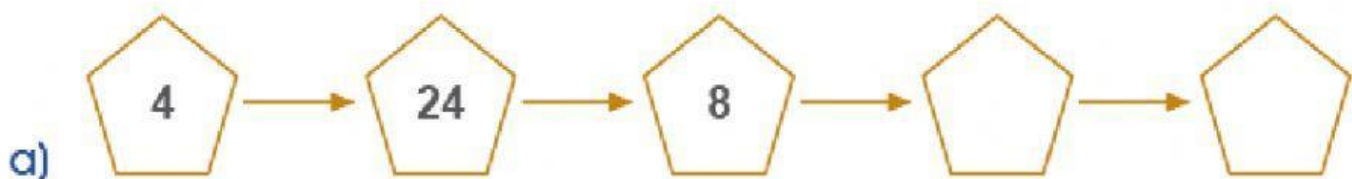
Regla:  $\div 8$   $\rightarrow$



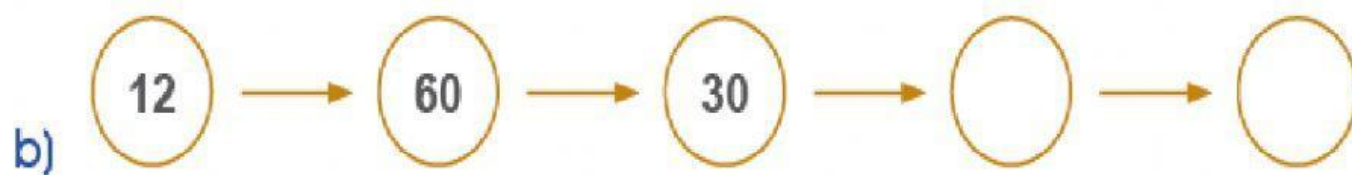
Regla:  $\div 10$   $\rightarrow$  y  $\times 2$   $\rightarrow$



- 2.** Descubre la regla y continúa las sucesiones:



Regla: \_\_\_\_\_



Regla: \_\_\_\_\_



Regla: \_\_\_\_\_