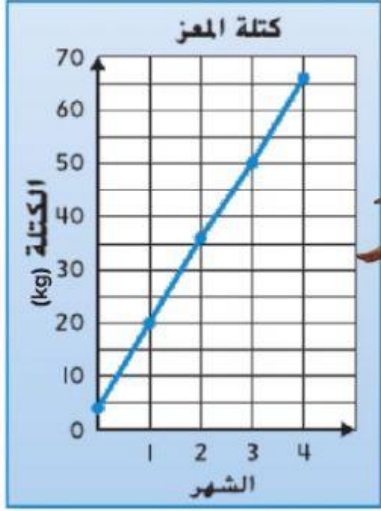


الاسم:	الصف:
اختبار الوحدة 13: التمثيلات البيانية	

السؤال الأول: انظر الرسم البياني المجاور ثم أجب عن السؤال الآتي:



1. كم تبلغ كتلة المعز في الشهر الثالث؟

30 كيلوجرام

50 كيلوجرام

60 كيلوجرام


2. ماذا تتوقع أن تكون كتلة المعز في الشهر الخامس؟

40 كيلوجرام

130 كيلوجرام

80 كيلوجرام

السؤال الثاني: يوضح الرسم البياني أنواع الطعام الذي يتناوله طلاب الصف الرابع



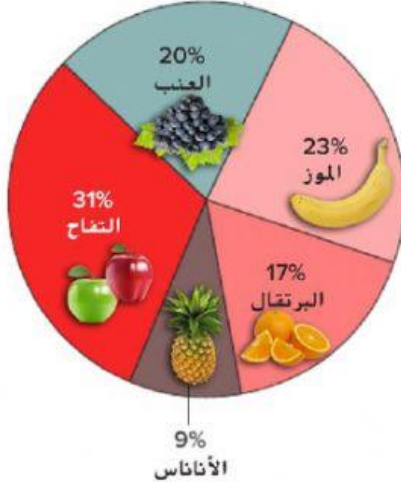
1. ما هو الطعام الأكثر تفضيلاً؟

شطائر البرجر البقري

مكرونة بالجبن

شطائر الدجاج

السؤال الثالث: يوضح الرسم البياني في الدائرة الفواكه المفضلة لدى منصور



1. بكم تزيد نسبة التفاح عن العنب؟

2. ما مجموع نسبة الموز والبرتقال؟