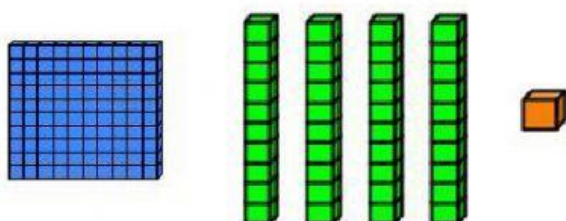


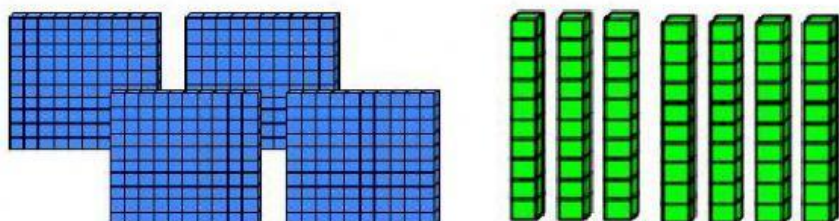
Nombre: _____

Fecha: _____

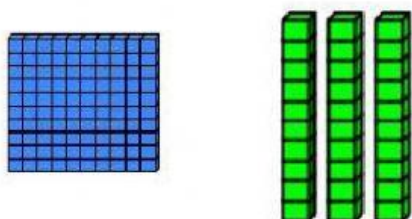
¿Qué número está representado? Escoge la contestación correcta.



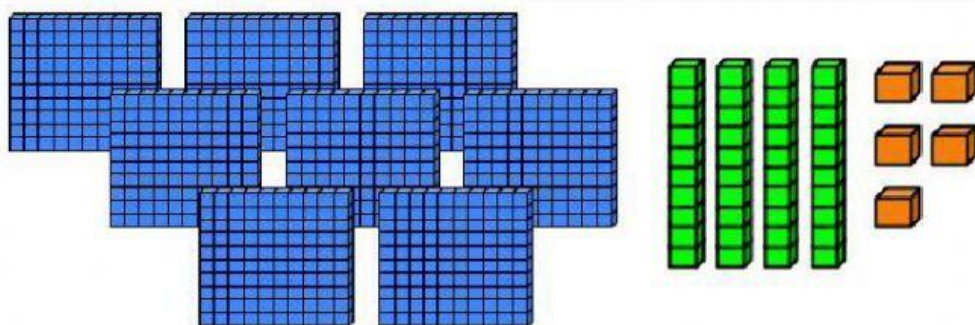
- a) 412
- b) 141
- c) 411



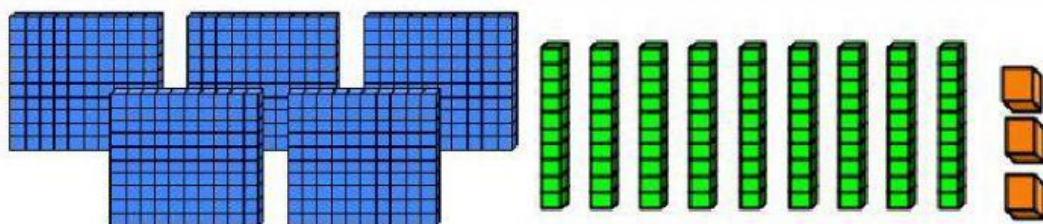
- a) 470
- b) 704
- c) 740



- a) 103
- b) 301
- c) 130



- a) 458
- b) 845
- c) 954



- a) 593
- b) 539
- c) 953

Nombre: _____

Fecha: _____

Escribe el número representado por los bloques de base 10.

