



# CENTRO EDUCATIVO GIMNASIO MODERNO FRANCHIEL

Preescolar - Primaria  
Aprobación oficial N° 0025 del 19 de mayo del 2004

## EVALUACION FINAL DEL TERCER PERIODO

Estudiante: \_\_\_\_\_

Asignatura: geometría Grado: cuarto Fecha: \_\_\_\_\_

Se evalúa para corregir, mejorar, estimular y aprender

Observa las unidades de superficie y las relaciones entre ellas:



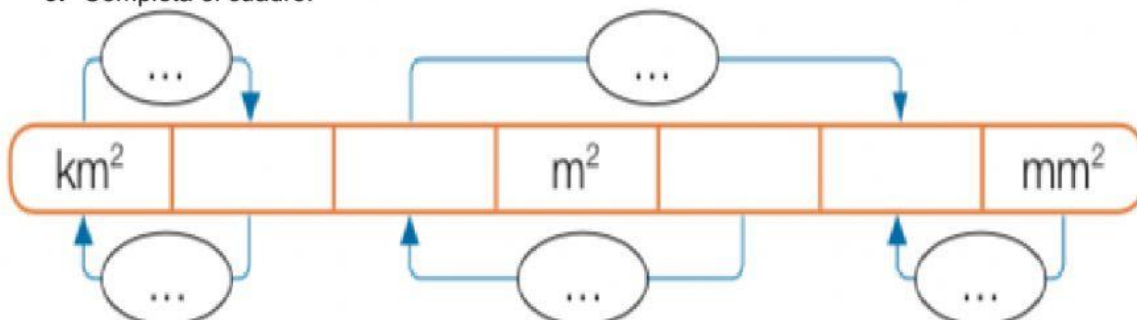
1. Observa el cuadro y completa.

- |  |  |
|--|--|
| • 3 km <sup>2</sup> = _____ hm <sup>2</sup>      | • 800 m <sup>2</sup> = _____ dam <sup>2</sup>    |
| • 7.900 dm <sup>2</sup> = _____ dam <sup>2</sup> | • 7 km <sup>2</sup> = _____ dam <sup>2</sup>     |
| • 6.700 cm <sup>2</sup> = _____ dm <sup>2</sup>  | • 0,54 hm <sup>2</sup> = _____ dm <sup>2</sup>   |
| • 2,6 m <sup>2</sup> = _____ cm <sup>2</sup>     | • 94.300 dm <sup>2</sup> = _____ hm <sup>2</sup> |
| • 5,7 dm <sup>2</sup> = _____ m <sup>2</sup>     | • 1,42 cm <sup>2</sup> = _____ mm <sup>2</sup>   |
| • 725 cm <sup>2</sup> = _____ m <sup>2</sup>     | • 96.000 cm <sup>2</sup> = _____ hm <sup>2</sup> |

2. Escribe la unidad más adecuada para expresar cada superficie (kilómetros cuadrados, metros cuadrados o centímetros cuadrados).








- Tu Comunidad Autónoma = \_\_\_\_\_
- Una hoja de papel = \_\_\_\_\_
- La clase del colegio = \_\_\_\_\_
- El carné de identidad = \_\_\_\_\_
- Tu casa = \_\_\_\_\_

3. Completa el cuadro.



Jeimmy Paola Romero Aya  
[Docente.paolaromero.framchel@gmail.com](mailto:Docente.paolaromero.framchel@gmail.com)  
WhatsApp: 302 864 21 24

4. Completa la tabla de los polígonos según su número de lados, ángulos y vértice. Escribe el nombre de cada uno de ellos.

| FIGURA  | NÚMERO DE LADOS | NÚMERO DE VÉRTICES | NÚMERO DE ÁNGULOS | NOMBRE |
|---|-----------------|--------------------|-------------------|--------|
|    |                 |                    |                   |        |
|    |                 |                    |                   |        |
|    |                 |                    |                   |        |
|    |                 |                    |                   |        |
|    |                 |                    |                   |        |
|   |                 |                    |                   |        |
|  |                 |                    |                   |        |

5. Analiza y responde correctamente.

a. Si un polígono tiene 5 vértices ¿qué clase de polígono es?

- ❖ Triángulo
- ❖ Cuadrilátero
- ❖ Pentágono
- ❖ Hexágono

b. Si un polígono tiene 3 vértices ¿qué clase de polígono es?

- ❖ Triángulo
- ❖ Cuadrilátero
- ❖ Pentágono
- ❖ Hexágono

c. Si un polígono tiene 6 vértices ¿qué clase de polígono es?

- ❖ Triángulo
- ❖ Cuadrilátero
- ❖ Pentágono
- ❖ Hexágono

d. Si un polígono tiene 4 vértices ¿qué clase de polígono es?

- ❖ Triángulo
- ❖ Cuadrilátero
- ❖ Pentágono
- ❖ Hexágono