



I. Trắc nghiệm: Khoanh vào chữ cái trước câu trả lời đúng hoặc làm theo yêu cầu:

1. Số tự nhiên a gồm mấy chữ số, biết rằng a có chữ số hàng cao nhất là hàng nghìn?

- A. Gồm 3 chữ số B. Gồm 4 chữ số C. Gồm 5 chữ số

2. Một hình tam giác có ba cạnh đều có độ dài là 200cm. Chu vi hình tam giác đó là:

- A. 400cm B. 6m C. 60cm

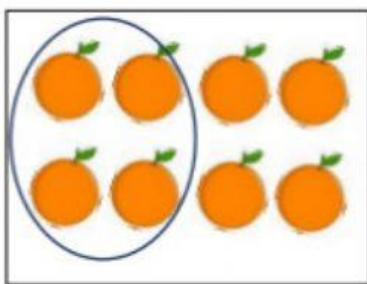
3. Biểu thức: $10 \times 5 + 10$ có kết quả là bao nhiêu?

- A. 60 B. 150 C. 70

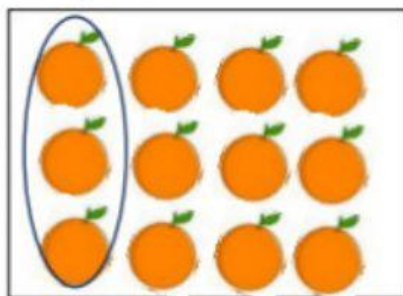
4. $x : 4 = 10$, x là:

- A. Số chia B. Thương C. Số bị chia

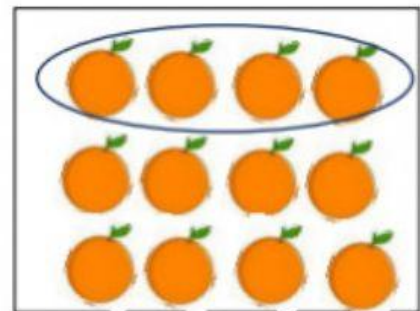
5. Hình nào đã khoanh vào $\frac{1}{3}$ số quả cam?



A



B



C

6. Số thích hợp để điền vào chỗ chấm: $4 \times 5 < 4 \times 4 + 4 \times \dots$ là:

- A. 1 B. 2 C. 0

7. Số trừ là bao nhiêu biết rằng số bị trừ là 352 và hiệu là 338?

- A. 14 B. 790 C. 24

8. Tìm số bị trừ biết số trừ là 620 và hiệu là 380

- A. 340 B. 1000 C. 440

