



**PENILAIAN TENGAH SEMESTER (PTS)**  
**SDN RAWA BADAK UTARA 21**  
**TAHUN PELAJARAN 2021 - 2022**



Nama :

Kelas :

Hari / Tanggal :

Mata Pelajaran : Matematika

Berilah tanda silang (x) pada huruf a, b, c atau d di depan jawaban yang paling benar !

1. Jumlah seluruh jari di tangan kita adalah ...

- a. dua
- b. lima
- c. sepuluh


7. Jumlah es krim Kayla seluruhnya ada ... .



$$3 + 4 =$$

- a. 6
- b. 7
- c. 8

2. Banyaknya gambar buah jeruk di bawah adalah ....



- a. enam
- b. delapan
- c. sepuluh

8. Ayah membeli 2 kue, ibu membeli 2 kue. Banyak seluruh kue adalah ... .

- a. 4
- b. 5
- c. 6

3. Banyak anak perempuan pada gambar di bawah adalah ... .



- a. 2
- b. 3
- c. 4

9. Berikut ini pernyataan yang benar adalah ...



- a. sampo lebih banyak dari sabun
- b. sampo lebih sedikit dari sabun
- c. sampo sama banyak sabun

4. Urutan bilangan dari yang terbesar adalah ....



- a. 1-2-3-4-5
- b. 3-2-1-4-5
- c. 5-4-3-2-1

5. Jumlah jeruk lebih ..... dari jumlah apel



- a. sedikit
- b. banyak
- c. sama

10. Lambang bilangan di bawah dibaca ... .




- a. sembilan
- b. sepuluh
- c. sebelas

6. Antara 7 dan 10 terdapat bilangan ... .

- a. 8 dan 9
- b. 5 dan 8
- c. 9 dan 10

11. Kalimat matematika yang tepat untuk gambar diatas adalah ... .






- a.  $5 - 3 = 2$
- b.  $5 - 2 = 3$
- c.  $2 + 3 = 5$

12. Yahya merawat 7 ekor kelinci. Kemarin 2 ekor kelinci Yahya mati. Sisa kelinci Yahya adalah ... ekor.

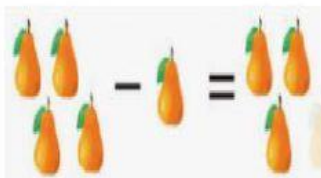
- a. 9
- b. 7
- c. 5

13. Hasil pengurangan pada gambar dibawah adalah ... .



- a. 
- b. 
- c. 

14. Kalimat matematika yang tepat untuk gambar diatas adalah ... .



- a.  $4 - 1 = 3$
- b.  $4 + 1 = 3$
- c.  $4 - 1 = 2$

15. Benda-benda pada gambar dibawah merupakan bangun ... .



- a. kubus
- b. balok
- c. tabung

16. Bangun yang semua sisinya mempunyai ukuran yang sama adalah ... .

- a. tabung
- b. kubus
- c. bola

17. Jumlah balok pada gambar di bawah ini ada ...






- a. 1
- b. 2
- c. 3

18. Benda mirip bola adalah ....

- a. kaleng biscuit
- b. tempat tisu
- c. balon

19. Gambar yang tepat untuk melengkapi pola di bawah adalah ... .



- a. 
- b. 
- c. 

20. Pola gambar dibawah adalah ... .



- a. kijang buaya kijang buaya kijang buaya
- b. buaya kijang buaya kijang buaya kijang
- c. buaya kijang kijang buaya buaya kijang